



[01 ~ 06] 진호네 마을의 농장별 오리의 수를 그림그래프로 나타냈습니다. □ 안에 알맞은 말이나 수를 써넣으세요.



농장별 오리의 수

농장	오리의 수
가	
나	
다	

 10마리  1마리

01 조사한 자료를 그림으로 나타낸 그래프를 □ 라고 합니다.

02 농장별 □ 를 조사했습니다.

03  은 □ 마리를,  은 □ 마리를 나타내는 그림입니다.

04 가 농장은  이 □ 개,  이 □ 개이므로 □ 마리입니다.



12 표를 보고 그림그래프로 나타낼 때 그림을 몇 가지로 나타내면 좋을지 □ 안에 알맞은 수를 써넣으세요.

□대와 1대인 그림 □가지로 나타내는 것이 좋겠습니다.

13 표를 보고 그림그래프로 나타내 보세요.

마을별 자전거 수

마을	자전거 수
가	△△△△○○
나	
다	
라	

△ 10대 ○ 1대

14 자전거가 많은 마을부터 차례로 써 보세요.

()

15 자전거 수가 가장 많은 마을과 가장 적은 마을의 자전거 수의 차는 몇 대인가요?

()

[16~20] 미진이네 마을의 작년 양파 생산량을 조사하여 표로 나타내었습니다. 물음에 답하세요.

양파 생산량

농장	가	나	다	라	합계
생산량 (kg)	420	250	510	320	1500

16 표를 보고 그림그래프로 나타내 보세요.

□

농장	양파 생산량
가	
나	
다	
라	

🍷 □ kg 🍷 □ kg

17 양파 생산량이 가장 적은 농장은 어느 농장인가요?

()



보충 6. 자료의 정리

번호	성취기준	문항 내용	정답	난이도	비고
1	4수05-01 실생활 자료를 수집하여 간단한 그림그래프나 막대그래프로 나타낼 수 있다.	그림그래프 알아보기	그림그래프	하	
2		그림그래프 알아보기	오리의 수	하	
3		그림그래프 알아보기	10, 1	하	
4		그림그래프 알아보기	2, 5, 25	하	
5		그림그래프 알아보기	4, 2, 42	하	
6		그림그래프 알아보기	2, 9, 29	하	
7		그림그래프 알아보기	10마리, 1마리	하	
8		그림그래프 알아보기	33마리	하	
9		그림그래프 알아보기	라 목장	하	
10		그림그래프 알아보기	나 목장	하	
11	4수05-03 여러 가지 자료를 수집, 분류, 정리하여 자료의 특성에 맞는 그래프로 나타내고, 그래프를 해석할 수 있다.	그림그래프 알아보기	114	중	
12		표를 보고 그림그래프로 나타내기	예) 10 / 2	중	
13		표를 보고 그림그래프로 나타내기	표 아래 참조	중	
14		그림그래프 알아보기	가 마을, 다 마을, 라 마을, 나 마을	중	
15		그림그래프 알아보기	29대	중	
16		표를 보고 그림그래프로 나타내기	표 아래 참조	중	
17		그림그래프 알아보기	나 농장	중	
18		그림그래프 알아보기	그림그래프	중	
19		그림그래프 알아보기	180 kg	중	
20		그림그래프 알아보기	표 아래 참조	중	



13 마을별 자전거 수

마을	자전거 수
가	△△△△○○
나	△○○○
다	△△△○○○
라	△△○○○○○

△ 10대 ○ 1대

16 예

양파 생산량

농장	양파 생산량
가	
나	
다	
라	

100 kg
 10 kg

20 예 양파 생산량이 가장 많은 농장은 다 농장입니다.