

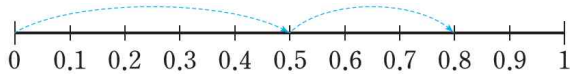
수학  
4-2  
**학습지**

[6차시] 소수 한 자리 수의 덧셈을 해 볼  
까요



초등학교 \_\_\_\_\_학년 \_\_\_\_\_반 \_\_\_\_\_번 이름: \_\_\_\_\_

01 수직선을 보고 □ 안에 알맞은 수를 써넣으세요.



$0.5 + 0.3 = \square$

02  $1.6 + 0.8$ 을 계산하는 방법입니다. □ 안에 알맞은 수를 써넣으세요.

1.6은 0.1이  개입니다.  
 0.8은 0.1이  개입니다.  
 →  $1.6 + 0.8$ 은 0.1이  개이므로  
 입니다.

[03~04] 계산해 보세요.

<p>03</p> $\begin{array}{r} 0.7 \\ + 2.7 \\ \hline \end{array}$	<p>04</p> $\begin{array}{r} 4.5 \\ + 1.8 \\ \hline \end{array}$
---	---

05 설명하는 수를 구해 보세요.

2.4보다 6.7 큰 수

( \_\_\_\_\_ )

06 관계있는 것끼리 선으로 이어 보세요.

$0.2 + 0.4$	•	1.2
$0.7 + 0.5$	•	0.6
$1.6 + 0.3$	•	1.9

07 규호는 시장에서 2.3 kg짜리 수박과 1.2 kg 짜리 호박을 샀습니다. 규호가 산 수박과 호박은 모두 몇 kg일까요?



식 \_\_\_\_\_

답 \_\_\_\_\_



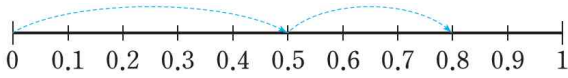


[6차시] 소수 한 자리 수의 덧셈을 해 볼  
까요



초등학교 \_\_\_\_\_ 학년 \_\_\_\_\_ 반 \_\_\_\_\_ 번 이름: \_\_\_\_\_

01 수직선을 보고 □ 안에 알맞은 수를 써넣으세요.



$0.5 + 0.3 = \square$  (0.8)

풀이 수직선의 0에서 오른쪽으로 0.5만큼 간 후 오른쪽으로 0.3만큼 더 가면 0.8이므로  $0.5 + 0.3 = 0.8$ 입니다.

02  $1.6 + 0.8$ 을 계산하는 방법입니다. □ 안에 알맞은 수를 써넣으세요.

1.6은 0.1이 16 개입니다.  
 0.8은 0.1이 8 개입니다.  
 →  $1.6 + 0.8$ 은 0.1이 24 개이므로  
2.4 입니다.

풀이 1.6은 0.1이 16개, 0.8은 0.1이 8개이므로  $1.6 + 0.8$ 은 0.1이  $16 + 8 = 24$ (개)입니다. 따라서 0.1이 24개이면 2.4이므로  $1.6 + 0.8 = 2.4$ 입니다.

[03~04] 계산해 보세요.

03 
$$\begin{array}{r} 0.7 \\ + 2.7 \\ \hline 3.4 \end{array}$$

04 
$$\begin{array}{r} 4.5 \\ + 1.8 \\ \hline 6.3 \end{array}$$

풀이 받아올림에 주의하여 같은 자리 수끼리 더합니다.

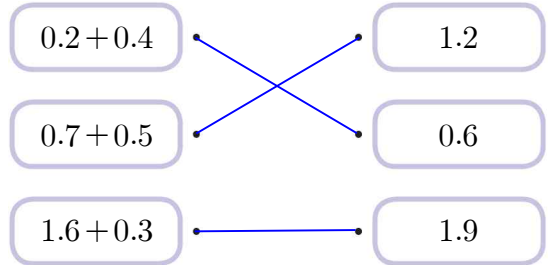
05 설명하는 수를 구해 보세요.

2.4보다 6.7 큰 수

( 9.1 )

풀이  $2.4 + 6.1 = 9.1$

06 관계있는 것끼리 선으로 이어 보세요.



풀이  $0.2 + 0.4 = 0.6$ ,  $0.7 + 0.5 = 1.2$ ,  $1.6 + 0.3 = 1.9$

07 규호는 시장에서 2.3 kg짜리 수박과 1.2 kg 짜리 호박을 샀습니다. 규호가 산 수박과 호박은 모두 몇 kg일까요?



식  $2.3 + 1.2 = 3.5$

답 3.5 kg

풀이 (수박과 호박의 무게)  
 $= (\text{수박의 무게}) + (\text{호박의 무게}) = 2.3 + 1.2 = 3.5(\text{kg})$

08 계산 결과가 가장 작은 것을 찾아 기호를 써 보세요.

$$\textcircled{㉠} 2.5+4.7 \quad \textcircled{㉡} 4.3+6.4$$

$$\textcircled{㉢} 5.8+1.2 \quad \textcircled{㉣} 3.9+3.9$$

(                       $\textcircled{㉢}$                       )

**풀이**  $\textcircled{㉠} 2.5+4.7=7.2$      $\textcircled{㉡} 4.3+6.4=10.7$

$$\textcircled{㉢} 5.8+1.2=7 \quad \textcircled{㉣} 3.9+3.9=7.8$$

→  $7 < 7.2 < 7.8 < 10.7$ 이므로 계산 결과가 가장 작은 것은  $\textcircled{㉢}$ 입니다.