

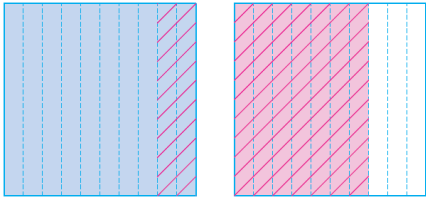
수학
4-2
학습지

[7차시] 소수 한 자리 수의 뺄셈을 해 볼
까요



초등학교 _____학년 _____반 _____번 이름: _____

01 모눈종이 전체 크기가 1이라고 할 때 그림을 보고 □ 안에 알맞은 수를 써넣으세요.



$1.7 - \square = \square$

02 $7.2 - 3.5$ 를 계산하는 방법입니다. □ 안에 알맞은 수를 써넣으세요.

7.2는 0.1이 □ 개입니다.
3.5는 0.1이 □ 개입니다.
→ $7.2 - 3.5$ 는 0.1이 □ 개이므로 □ 입니다.

03 빈칸에 두 수의 차를 써넣으세요.

2.4	
3.1	

04 계산 결과를 비교하여 ○ 안에 $>$, $=$, $<$ 를 알맞게 써넣으세요.

$1.5 - 0.6$ ○ $3.2 - 2.4$

05 대화를 읽고 누구의 연필이 몇 cm 더 긴지 차례로 써 보세요.

내 연필의 길이는 11 cm야. (유영)
내 연필의 길이는 8.3 cm야. (경수)

06 계산 결과가 같은 것끼리 선으로 이어 보세요.

$0.9 - 0.3$ • $6.3 - 3.7$
 $4 - 1.4$ • $5 - 0.2$
 $9.6 - 4.8$ • $0.7 - 0.1$

07 지혁이는 집에서 4.2 km 떨어진 도서관에
자전거를 타고 가려고 합니다. 지혁이가 지
금까지 간 거리가 2.5 km일 때 도서관에
도착하려면 몇 km를 더 가야 하나요?

식 _____

답 _____

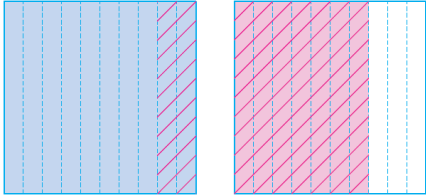


[7차시] 소수 한 자리 수의 뺄셈을 해 볼
까요



초등학교 _____학년 _____반 _____번 이름: _____

01 모눈종이 전체 크기가 1이라고 할 때 그림을 보고 □ 안에 알맞은 수를 써넣으세요.



$1.7 - \boxed{0.9} = \boxed{0.8}$

풀이 모눈 한 칸의 크기는 0.1이고 17칸 중 9칸을 지워 8칸이 남았습니다. $\rightarrow 1.7 - 0.9 = 0.8$

02 $7.2 - 3.5$ 를 계산하는 방법입니다. □ 안에 알맞은 수를 써넣으세요.

7.2는 0.1이 개입니다.
 3.5는 0.1이 개입니다.
 $\rightarrow 7.2 - 3.5$ 는 0.1이 개이므로
 □ 입니다.

풀이 7.2는 0.1이 72개, 3.5는 0.1이 35개이므로 $7.2 - 3.5$ 는 0.1이 $72 - 35 = 37$ (개)입니다. 따라서 0.1이 37개이면 3.7이므로 $7.2 - 3.5 = 3.7$ 입니다.

03 빈칸에 두 수의 차를 써넣으세요.



풀이 $3.1 - 2.4 = 0.7$

04 계산 결과를 비교하여 ○ 안에 $>$, $=$, $<$ 를 알맞게 써넣으세요.

$1.5 - 0.6$ ○ $3.2 - 2.4$

풀이 $1.5 - 0.6 = 0.9$, $3.2 - 2.4 = 0.8$
 $\rightarrow 0.9 > 0.8$

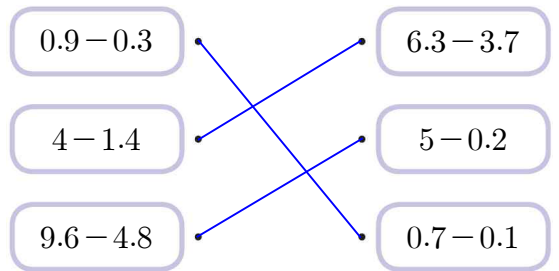
05 대화를 읽고 누구의 연필이 몇 cm 더 긴지 차례로 써 보세요.



(유영), (2.7 cm)

풀이 $11 > 8.3$ 이므로 유영의 연필이 $11 - 8.3 = 2.7$ (cm) 더 길다.

06 계산 결과가 같은 것끼리 선으로 이어 보세요.



풀이 $0.9 - 0.3 = 0.6$ $6.3 - 3.7 = 2.6$
 $4 - 1.4 = 2.6$ $5 - 0.2 = 4.8$
 $9.6 - 4.8 = 4.8$ $0.7 - 0.1 = 0.6$

07 지혁이는 집에서 4.2 km 떨어진 도서관에
자전거를 타고 가려고 합니다. 지혁이가 지
금까지 간 거리가 2.5 km일 때 도서관에
도착하려면 몇 km를 더 가야 하나요?

식

$$4.2 - 2.5 = 1.7$$

답

$$1.7 \text{ km}$$

풀이 (더 가야 하는 거리)

= (집에서 도서관까지의 거리) - (지금까지 간 거리)

$$= 4.2 - 2.5 = 1.7(\text{km})$$