



초등학교

학년

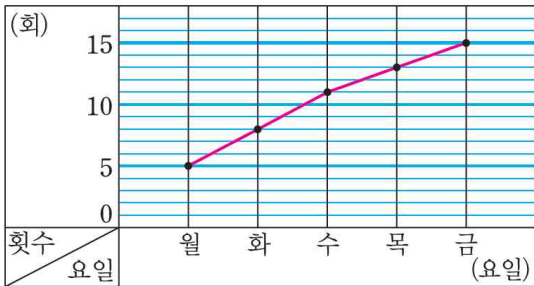
반

번

이름: \_\_\_\_\_

[01~04] 민호의 턱걸이 횟수를 조사하여 나타낸 꺾은선그래프입니다. 물음에 답하세요.

턱걸이 횟수



01 꺾은선그래프의 가로와 세로는 각각 무엇을 나타내나요?

가로 ( )

세로 ( )

02 세로 눈금 한 칸은 몇 회를 나타내나요?

( )

03 꺾은선은 무엇을 나타내나요?

( )

04 민호의 턱걸이 횟수 변화를 바르게 말한 사람에 ○표 하세요.

턱걸이 횟수는 점점 많아지고 있어.



재성

( )

턱걸이 횟수는 점점 적어지고 있어.

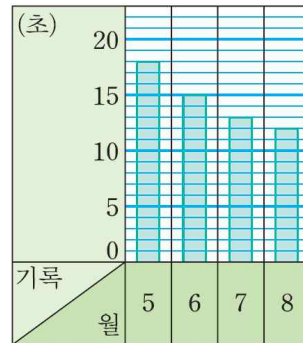


헤리

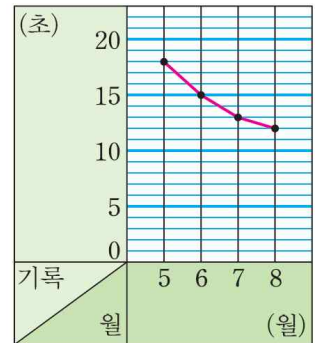
( )

[05~08] 우람이의 50m 달리기 기록을 조사하여 두 그래프로 나타냈습니다. 물음에 답하세요.

(가) 달리기 기록



(나) 달리기 기록



05 □ 안에 알맞은 말을 써넣으세요.

(가) 그래프는 □(으)로, (나) 그래프는 점들을 □(으)로 이어 그렸습니다.

06 (나)와 같은 그래프를 무슨 그래프라고 하나요?

( )

07 (나) 그래프에서 가로와 세로는 각각 무엇을 나타내나요?

가로 ( )

세로 ( )

08 달리기 기록의 변화를 한눈에 알아보기 쉬운  
그래프는 (가)와 (나) 중 어느 것인가요?  
( )



[2차시] 꺾은선그래프를 알아볼까요

수학100~101쪽, 수학 익힘66~67쪽



정답

초등학교

학년

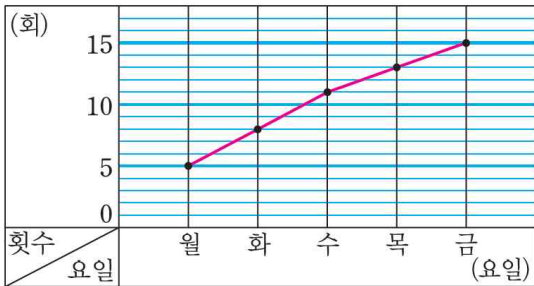
반

번

이름: \_\_\_\_\_

[01~04] 민호의 턱걸이 횟수를 조사하여 나타낸 꺾은선그래프입니다. 물음에 답하세요.

턱걸이 횟수



01 꺾은선그래프의 가로와 세로는 각각 무엇을 나타내나요?

가로 (            **요일**            )

세로 (            **횟수**            )

**풀이** 꺾은선그래프의 가로는 요일, 세로는 횟수를 나타냅니다.

02 세로 눈금 한 칸은 몇 회를 나타내나요?

(            **1회**            )

**풀이** 세로 눈금 5칸이 5회를 나타내므로 세로 눈금 한 칸은 1회를 나타냅니다.

03 꺾은선은 무엇을 나타내나요?

(            **턱걸이 횟수의 변화**            )

04 민호의 턱걸이 횟수 변화를 바르게 말한 사람에게 ○표 하세요.

턱걸이 횟수는 점점 많아지고 있어.



재성

(        )

턱걸이 횟수는 점점 적어지고 있어.



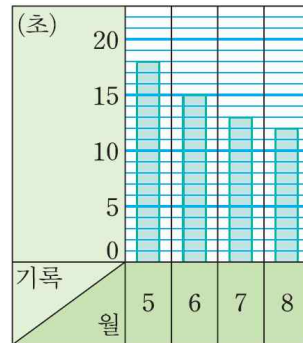
헤리

(                    )

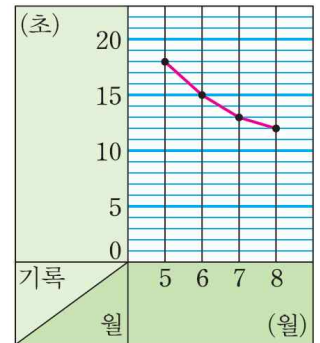
**풀이** 꺾은선그래프에서 턱걸이 횟수는 점점 많아지고 있습니다.

[05~08] 우람이의 50m 달리기 기록을 조사하여 두 그래프로 나타냈습니다. 물음에 답하세요.

(가) 달리기 기록



(나) 달리기 기록



05 □ 안에 알맞은 말을 써넣으세요.

(가) 그래프는 **막대**(으)로, (나) 그래프는 점들을 **선**(으)로 이어 그렸습니다.

**풀이** (가) 그래프는 막대로, (나) 그래프는 점들을 선으로 이어 그렸습니다.

06 (나)와 같은 그래프를 무슨 그래프라고 하나요?

(            **꺾은선그래프**            )

**풀이** 수량을 점으로 표시하고, 그 점들을 선분으로 이어 그린 그래프를 꺾은선그래프라고 합니다.

07 (나) 그래프에서 가로와 세로는 각각 무엇을 나타내나요?

가로 (            **월**            )

세로 (            **기록**            )

**풀이** (나) 그래프에서 가로는 월, 세로는 기록을 나타냅니다.

08 달리기 기록의 변화를 한눈에 알아보기 쉬운 그래프는 (가)와 (나) 중 어느 것인가요?

(                    (나)                    )

**풀이** 자료의 변화를 한눈에 알아보기 쉬운 그래프는 (나) 꺾은선그래프입니다.