



[6차시] 모양 만들기를 해 볼까요

126~127쪽, 수학 익힘86~87쪽



초등학교


학년

반

번

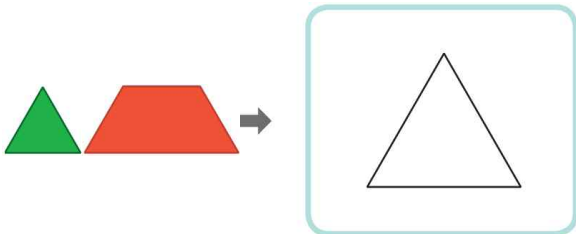
이름: _____

01 모양을 만드는 데 사용한 다각형을 모두 찾아
○표 하세요.

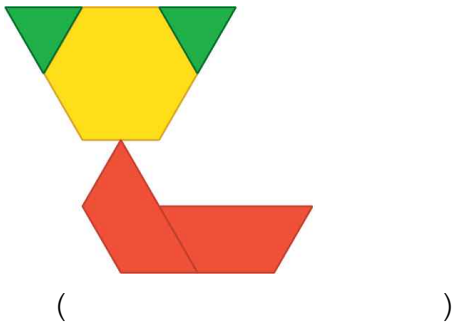



삼각형 사각형 오각형 육각형


02 2가지 모양 조각을 사용하여 정삼각형을 만
들어 보세요.




03 모양을 만드는 데 사용한 다각형을 모두 찾아
이름을 써 보세요.



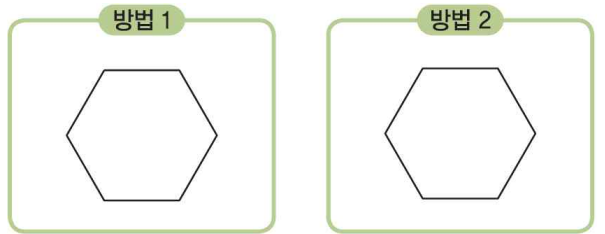
04 다음 모양을 만들려면  모양 조각은
몇 개 필요한가요?



05 2가지 모양 조각을 사용하여 사다리꼴을 만
들어 보세요.



06 , ,  모양 조각 중
2가지를 골라 정육각형을 만들려고 합니다. 서
로 다른 방법으로 정육각형을 만들어 보세요.





초등학교


학년

반

번

이름: _____

01 모양을 만드는 데 사용한 다각형을 모두 찾아
○표 하세요.

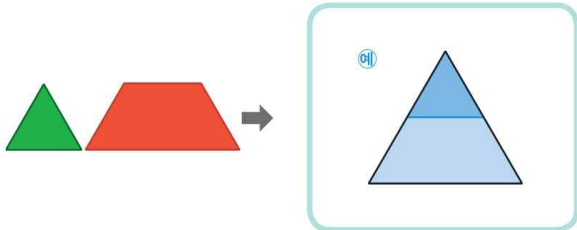


삼각형 사각형 오각형 육각형

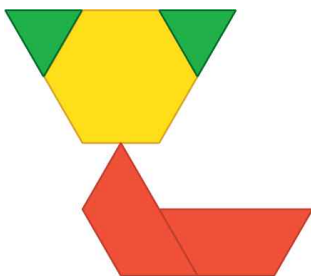
풀이 • • : 사각형

• : 삼각형

02 2가지 모양 조각을 사용하여 정삼각형을 만
들어 보세요.



03 모양을 만드는 데 사용한 다각형을 모두 찾아
이름을 써 보세요.



(삼각형, 사각형, 육각형)

풀이

: 삼각형 : 사각형 : 육각형

따라서 삼각형, 사각형, 육각형을 사용하여 만든 모양입니다.

04 다음 모양을 만들려면 모양 조각은
몇 개 필요한가요?

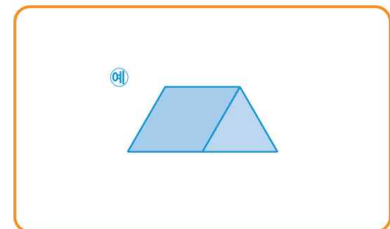
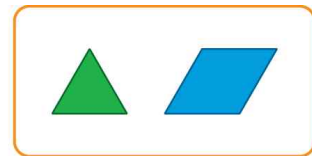


(4개)

풀이



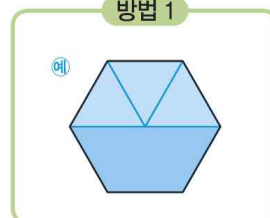
05 2가지 모양 조각을 사용하여 사다리꼴을 만
들어 보세요.



풀이 평행한 변이 한 쌍이라도 있는 사각형을 만듭니다.

06 , , 모양 조각 중
2가지를 골라 정육각형을 만들려고 합니다. 서
로 다른 방법으로 정육각형을 만들어 보세요.

방법 1



방법 2



풀이 여러 가지 방법으로 만들어 봅니다.