



초등학교

학년

반

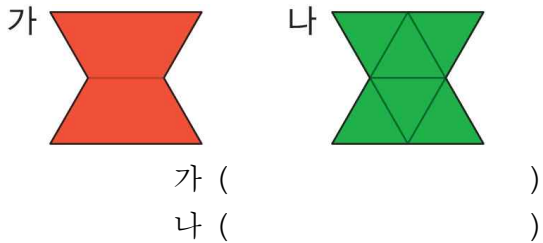
번

이름: _____

[01~02] 주어진 모양 조각으로 평행사변형의 빈칸을 채워 보세요.



03 모양을 채우고 있는 다각형의 이름을 각각 써 보세요.



04 오른쪽은 다각형을 사용하여 꾸민 모양입니다. 모양 채우기 방법을 바르게 설명한 사람을 찾아 이름을 써 보세요.



길이가 서로 다른 변끼리 이어 붙였어.

헤리

빈틈없이 이어 붙였어.

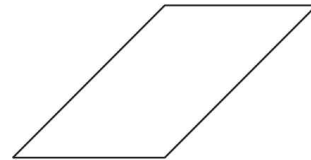
현태

서로 겹치게 이어 붙였어.

고은

()

05 와 를 모두 사용하여 평행사변형을 채울 수 있는 방법을 나타내어 보세요.



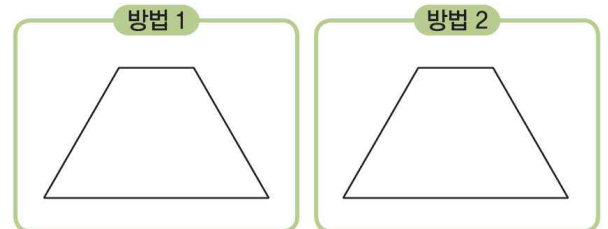
같은 모양 조각을 여러 번 사용할 수 있어.



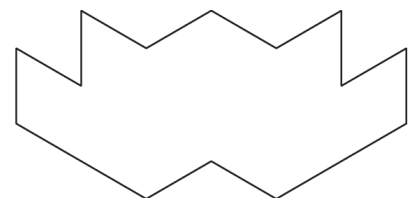
[06~07] 모양 조각을 보고 물음에 답하세요.



06 모양 조각을 사용하여 서로 다른 방법으로 사다리꼴을 채워 보세요.



07 모양 조각을 모두 사용하여 채우기를 해 보세요.





초등학교

학년

반

번

이름: _____

[01~02] 주어진 모양 조각으로 평행사변형의 빈칸을 채워 보세요.

01 →

풀이 서로 겹치지 않게 빈틈없이 채워 봅니다.

02 →

03 모양을 채우고 있는 다각형의 이름을 각각 써 보세요.

가 나

가 (사각형)
나 (삼각형)

04 오른쪽은 다각형을 사용하여 꾸민 모양입니다. 모양 채우기 방법을 바르게 설명한 사람을 찾아 이름을 써 보세요.

길이가 서로 다른 변끼리 이어 붙였어. (헤리)
빈틈없이 이어 붙였어. (현대)
서로 겹치게 이어 붙였어. (고은)

(현대)

풀이 길이가 같은 변끼리 서로 겹치지 않게 빈틈없이 이어 붙였습니다.

05 와 를 모두 사용하여 평행사변형을 채울 수 있는 방법을 나타내어 보세요.

예

같은 모양 조각을 여러 번 사용할 수 있어.

풀이 를 로 나타낼 수도 있습니다.

[06~07] 모양 조각을 보고 물음에 답하세요.



06 모양 조각을 사용하여 서로 다른 방법으로 사다리꼴을 채워 보세요.

방법 1 **예**

방법 2 **예**

풀이 길이가 같은 변끼리 서로 겹치지 않게 빈틈없이 이어 붙여 채워 봅니다.

07 모양 조각을 모두 사용하여 채우기를 해 보세요.

예

풀이 같은 모양 조각을 여러 번 사용하여 채워 봅니다.