

수학  
5-2  
학습지

### [3차시] 초과와 미만을 알아볼까요

수학12~13쪽, 수학 익힘8~9쪽



초등학교 \_\_\_\_\_학년 \_\_\_\_\_반 \_\_\_\_\_번 이름: \_\_\_\_\_

01 25 초과인 수를 모두 찾아 ○표 하세요.

26	23	19	31	25
----	----	----	----	----

02 슬비네 반 학생들의 몸무게를 조사하여 나타낸 표입니다. 몸무게가 46kg 미만인 학생의 몸무게를 모두 써 보세요.

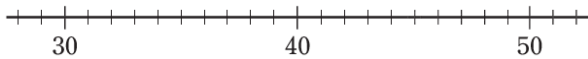
슬비네 반 학생들의 몸무게

이름	슬비	혜수	은혁	동원	호수
몸무게(kg)	47.0	46.0	42.1	49.5	45.8

( \_\_\_\_\_ )

03 수직선에 나타내어 보세요.

45 초과인 수



04 수정이네 반 학생들의 악력 기록을 조사하여 나타낸 표입니다. 악력이 19kg 초과인 학생의 이름을 모두 써 보세요.

수정이네 반 학생들의 악력 기록

이름	수정	슬기	남욱	민경	종수
힘(kg)	20.9	18.7	22.1	19.0	18.4

( \_\_\_\_\_ )

05 민호네 반 학생들의 윗몸 말아 올리기 횟수를 조사하여 나타낸 표입니다. 윗몸 말아 올리기를 한 횟수가 45회 초과인 사람을 모두 써 보세요.

민호네 반 학생들의 윗몸 말아 올리기 횟수

이름	횟수(회)	이름	횟수(회)
민호	45	유현	39
하영	50	세운	61
지호	47	남주	34

( \_\_\_\_\_ )

06 76을 포함하는 수의 범위를 찾아 기호를 써 보세요.

㉠ 76 미만인 수	㉡ 77 초과인 수
㉢ 76 초과인 수	㉣ 77 미만인 수

( \_\_\_\_\_ )



# [3차시] 초과와 미만을 알아보아요

수학12~13쪽, 수학 익힘8~9쪽



초등학교 \_\_\_\_\_ 학년 \_\_\_\_\_ 반 \_\_\_\_\_ 번 이름: \_\_\_\_\_

**01** 25 초과인 수를 모두 찾아 ○표 하세요.

26   23   19   31   25

- 풀이** 25 초과인 수는 25보다 큰 수이므로 26, 31에 ○표 합니다.
- 주의** 25 초과인 수에 25는 포함되지 않습니다.

**02** 슬비네 반 학생들의 몸무게를 조사하여 나타낸 표입니다. 몸무게가 46kg 미만인 학생의 몸무게를 모두 써 보세요.

슬비네 반 학생들의 몸무게

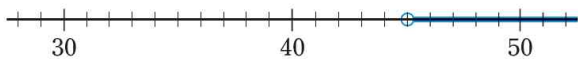
이름	슬비	혜수	은혁	동원	호수
몸무게(kg)	47.0	46.0	42.1	49.5	45.8

(     42.1kg, 45.8kg     )

- 풀이** 몸무게가 46kg보다 가벼운 학생의 몸무게를 찾으면 42.1kg, 45.8kg입니다.

**03** 수직선에 나타내어 보세요.

45 초과인 수



- 풀이** 수직선에서 작은 눈금 한 칸은 1을 나타내므로 40에서 오른쪽으로 5칸 간 곳이 45입니다. 45를 점 ○으로 나타내고, 오른쪽으로 선을 긋습니다.

**04** 수정이네 반 학생들의 악력 기록을 조사하여 나타낸 표입니다. 악력이 19kg 초과인 학생의 이름을 모두 써 보세요.

수정이네 반 학생들의 악력 기록

이름	수정	슬기	남욱	민경	종수
힘(kg)	20.9	18.7	22.1	19.0	18.4

(     수정, 남욱     )

- 풀이** 악력이 19kg보다 큰 학생은 수정(20.9kg), 남욱(22.1kg)입니다.

**05** 민호네 반 학생들의 윗몸 말아 올리기 횟수를 조사하여 나타낸 표입니다. 윗몸 말아 올리기 횟수를 한 횟수가 45회 초과인 사람을 모두 써 보세요.

민호네 반 학생들의 윗몸 말아 올리기 횟수

이름	횟수(회)	이름	횟수(회)
민호	45	유현	39
하영	50	세윤	61
지호	47	남주	34

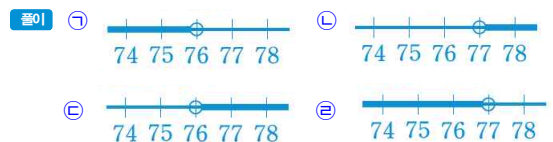
(     하영, 지호, 세윤     )

- 풀이** 윗몸 말아 올기기를 한 횟수가 45회보다 많은 사람은 하영(50회), 지호(47회), 세윤(61회)입니다.

**06** 76을 포함하는 수의 범위를 찾아 기호를 써 보세요.

㉠ 76 미만인 수
㉡ 77 초과인 수  
㉢ 76 초과인 수
㉣ 77 미만인 수

(     ㉣     )



따라서 76을 포함하는 수의 범위는 ㉣입니다.