



[6차시] 여러 가지 모양을 만들어 볼까요

120~121쪽



초등학교

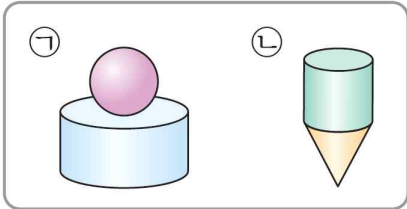
학년

반

번

이름: _____

[01~02] 그림을 보고 물음에 답하세요.



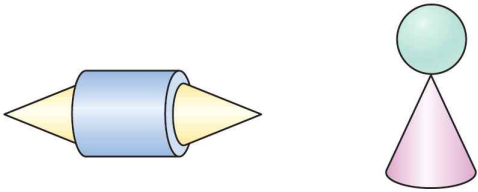
01 원기둥과 원뿔로 만든 모양의 기호를 써 보세요.

()

02 원기둥과 구로 만든 모양의 기호를 써 보세요.

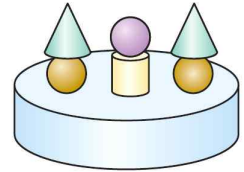
()

03 원기둥, 원뿔, 구 중에서 두 모양에 모두 사용한 입체도형은 무엇인가요?



()

[04~05] 독일의 홀슈텐 문을 보고 만든 모양입니다. 물음에 답하세요.



04 모양을 만드는 데 사용한 원기둥, 원뿔, 구는 각각 몇 개인가요?

원기둥 ()

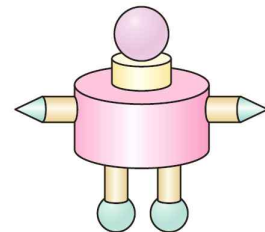
원뿔 ()

구 ()

05 원기둥, 원뿔, 구 중에서 가장 많이 사용한 입체도형은 어느 것입니까?

()

06 원기둥, 원뿔, 구 중에서 다음 로봇을 만드는 데 가장 많이 사용한 입체도형과 가장 적게 사용한 입체도형의 개수의 차를 구해 보세요.



()

