



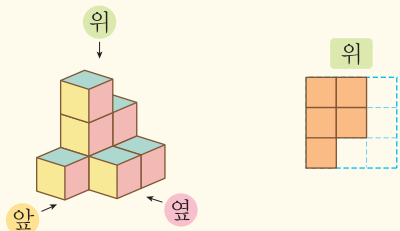
02 차시

쌓은 모양과 쌓기나무의 개수 (2)


Step 1 개념 익히기

02-1 쌓은 모양과 쌓기나무의 개수 (2) 유형 01~05

>> 쌓기나무로 쌓은 모양을 보고 위, 앞, 옆에서 본 모양 그리기

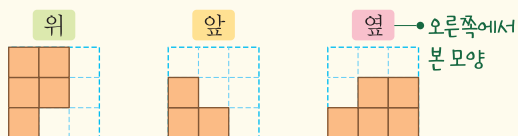


- (1) 위에서 본 모양을 보면 보이지 않는 쌓기나무가 없다는 것을 알 수 있습니다.
- (2) 이를 이용하여 쌓기나무를 쌓아 보고 앞과 옆에서 본 모양을 그립니다.



참고 쌓기나무로 쌓은 모양과 함께 위에서 본 모양을 추가한 이유는 뒤에 숨겨진 쌓기나무를 나타내기 위해서입니다.

>> 위, 앞, 옆에서 본 모양을 보고 쌓은 모양을 추측하고 쌓기나무의 개수 알아보기

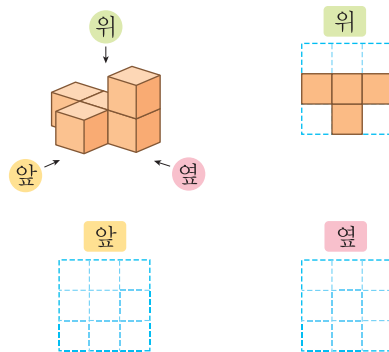


- (1) 위에서 본 모양을 보면 1층의 쌓기나무는 5개입니다.
- (2) **위** 앞에서 본 모양을 보면 ○ 부분은 쌓기나무가 각각 1개이고, △ 부분은 2개 이하입니다.
- (3) 옆에서 본 모양을 보면 ○ 부분 중에서 △ 부분은 쌓기나무가 1개이고, 나머지 ○ 부분은 2개입니다.

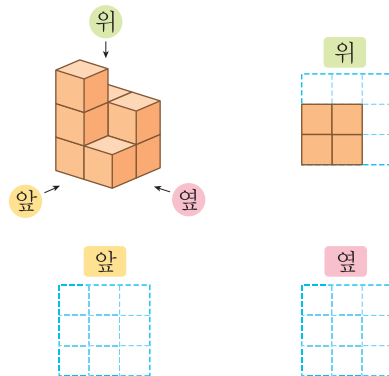


→ 1층: 5개, 2층: 2개로 똑같은 모양으로 쌓는 데 필요한 쌓기나무는 7개입니다.
• $5 + 2 = 7(\text{개})$

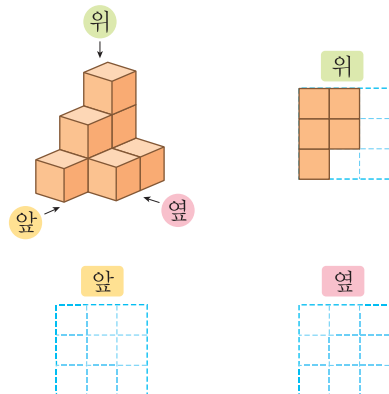
01



02



03



[01~03] 쌓기나무로 쌓은 모양과 위에서 본 모양입니다. 앞과 옆에서 본 모양을 각각 그려 보세요.



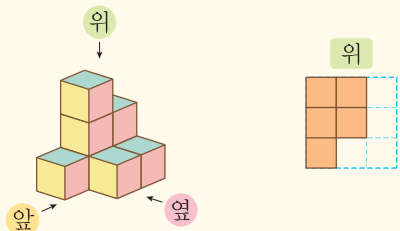
02 차시

쌓은 모양과 쌓기나무의 개수 (2)

Step 1 개념 익히기

02-1 쌓은 모양과 쌓기나무의 개수 (2) 유형 01~05

>> 쌓기나무로 쌓은 모양을 보고 위, 앞, 옆에서 본 모양 그리기

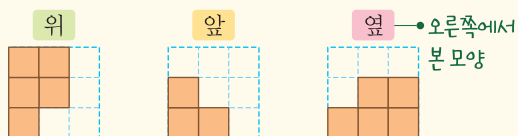


- (1) 위에서 본 모양을 보면 보이지 않는 쌓기나무가 없다는 것을 알 수 있습니다.
- (2) 이를 이용하여 쌓기나무를 쌓아 보고 앞과 옆에서 본 모양을 그립니다.

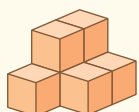


참고 쌓기나무로 쌓은 모양과 함께 위에서 본 모양을 추가한 이유는 뒤에 숨겨진 쌓기나무를 나타내기 위해서입니다.

>> 위, 앞, 옆에서 본 모양을 보고 쌓은 모양을 추측하고 쌓기나무의 개수 알아보기



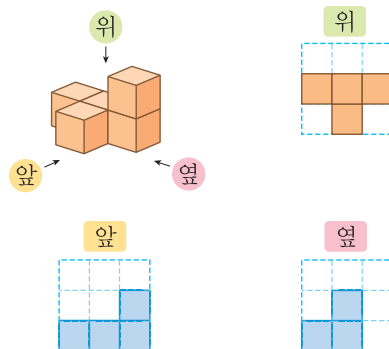
- (1) 위에서 본 모양을 보면 1층의 쌓기나무는 5개입니다.
- (2) **위** 앞에서 본 모양을 보면 ○ 부분은 쌓기나무가 각각 1개이고, △ 부분은 2개 이하입니다.
- (3) 옆에서 본 모양을 보면 ○ 부분 중에서 △ 부분은 쌓기나무가 1개이고, 나머지 ○ 부분은 2개입니다.



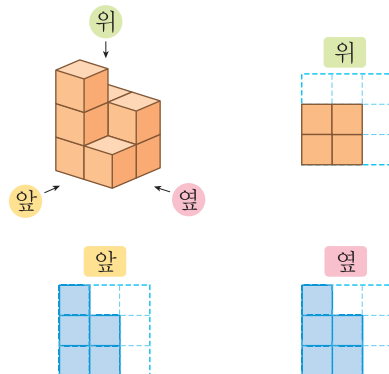
→ 1층: 5개, 2층: 2개로 똑같은 모양으로 쌓는 데 필요한 쌓기나무는 7개입니다.
• 5 + 2 = 7(개)

[01~03] 쌓기나무로 쌓은 모양과 위에서 본 모양입니다. 앞과 옆에서 본 모양을 각각 그려 보세요.

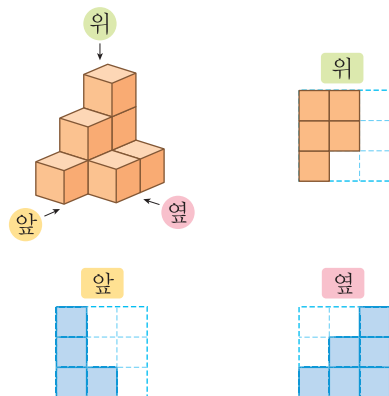
01



02



03



강의 체크	반	반	반	반	반
진도					
숙제					