

자연환경에 따른 우리 국토의 구분

03




예

예

해 보기

일기 예보를 보고 비가 올 것으로 예상되는 곳을 지도에서 찾아 ○표 하세요.



우리 국토를 어떻게 구분할 수 있을까요?

우리가 흔히 사용하는 북부 지방, 중부 지방, 남부 지방은 지역을 어떻게 구분한 것인지 살펴보아요.

북부 지방

지금의 북한 지역을 말해요. 원래는 멸악산맥의 북쪽을 뜻했지만, 6·25 전쟁 이후부터는 북한 지역을 북부 지방이라고 구분해요.

중부 지방

휴전선 남쪽부터 금강 하류와 소백산맥이 만나는 곳까지를 의미해요.

남부 지방

소백산맥과 금강 하류가 만나는 곳의 남쪽 지역을 의미해요.



우리 국토는 큰 산맥이나 하천을 중심으로 북부 지방, 중부 지방, 남부 지방으로 구분하고 있습니다.

전통적으로 지역을 어떻게 구분했을까요?

우리나라는 오래전부터 자연환경으로 지역을 구분했어요. 지역을 구분할 때는 산이나 호수, 강, 바다, 높은 고개 등의 자연적인 요소를 기준으로 하였어요. 지도와 함께 살펴보세요.

경기해의 서쪽에 있어서
해서 지방이라고 해요.

철령관을 기준으로 북
쪽을 **관북** 지방, 서쪽을
관서 지방이라고 해요.

철령관의 동쪽을 관동
지방이라고 하는데, **관동**
지방은 다시 태백산맥을
기준으로 **영동** 지방과 **영
서** 지방으로 나뉘어요.

내가 경기도야.

경기는 왕이 사는 도읍
(한양) 주변의 땅을 의
미해요.

의림지와 금강의 옛 이
름인 '호강'의 서쪽에
있어서 **호서** 지방이라
고 해요.

나를 기준으로
서쪽은 호서 지방,
남쪽은 호남
지방이야.



금강의 옛 이름인 '호강'
의 남쪽에 있어서 **호남**
지방이라고 해요.

이어도



동해

울릉도

독도

조령(문경 새재)이라
는 고개의 남쪽을 **영남** 지
방이라고 해요.



우리나라는 오래전부터 산이나 호수, 강, 바다 등
자연환경으로 지역을 구분하였습니다.
이러한 지역 구분 방식은 오늘날 행정 구역을 정
하는 기초가 되었습니다.

마무리 학습

» 우리 국토의 지역 구분

- 북부 지방은 휴전선을 기준으로 북쪽인 지금의 북한 지역을 말한다.
- 중부 지방은 휴전선 남쪽에서 금강 하류와 소백산맥이 만나는 곳까지를 말한다.
- 남부 지방은 금강 하류와 소백산맥이 만나는 남쪽 지역을 말한다.

정리!



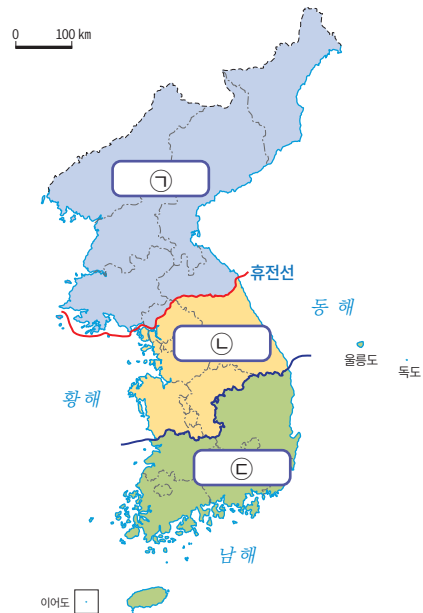
» 전통적인 지역 구분

우리나라는 오래전부터 산, 호수, 강, 바다 등의 자연환경으로 지역을 구분했으며, 이러한 구분은 오늘날 행정 구역을 정하는 기초가 되었다.

1

오른쪽 지도에 나타난 우리 국토의 지역 구분을 보고, ㉠~㉢에 들어갈 말을 쓰세요.

- ㉠ : ()
- ㉡ : ()
- ㉢ : ()



2

()안에 들어갈 알맞은 말을 쓰세요.

- (1) 우리나라는 오래전부터 산, 바다, 강 등과 같은 ()으로 지역을 구분했다.
- (2) () 지방은 금강 하류와 소백산맥이 만나는 곳의 남쪽 지역을 말한다.
- (3) 오늘날 북부 지방과 중부 지방은 ()을 경계로 구분하고 있다.

3

우리 국토의 전통적 지역 구분에서 다음은 각각 어느 지역에 관한 것인지 쓰세요.

- (1)

철령관을 기준으로
북쪽에 위치한 지역

()
- (2)

옛날에 왕이 살던
주변 지역이라고 해서
붙여진 이름

()
- (3)

금강의 옛 이름인
'호강'의 남쪽 지역이라고
해서 붙여진 이름

()

자연환경에 따른 우리 국토의 구분

03



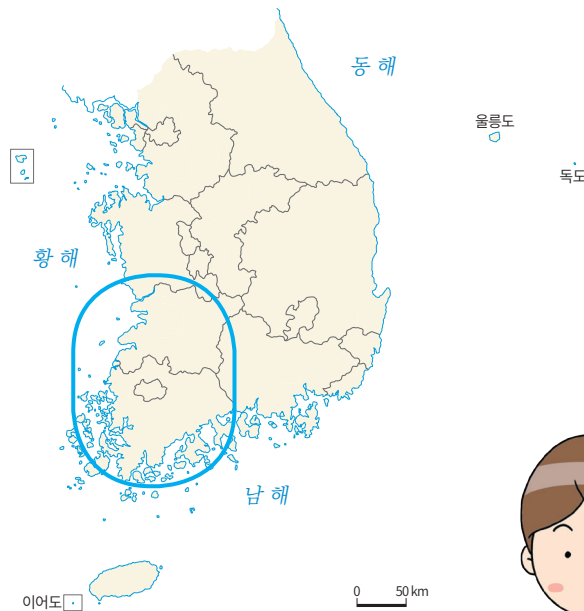
예

예

해 보기

★ 바른 답 확인하기 4쪽

일기 예보를 보고 비가 올 것으로 예상되는 곳을 지도에서 찾아 ○표 하세요.



호남 지방이 어디일까?



글쎄..... 남쪽 지방인가?



우리 국토를 어떻게 구분할 수 있을까요?

우리가 흔히 사용하는 북부 지방, 중부 지방, 남부 지방은 지역을 어떻게 구분한 것인지 살펴보아요.

북부 지방

지금의 북한 지역을 말해요. 원래는 멸악산맥의 북쪽을 뜻했지만, 6·25 전쟁 이후부터는 북한 지역을 북부 지방이라고 구분해요.

북부 지방

중부 지방

휴전선 남쪽부터 금강 하류와 소백산맥이 만나는 곳까지를 의미해요.

중부 지방

남부 지방

소백산맥과 금강 하류가 만나는 곳의 남쪽 지역을 의미해요.

남부 지방



우리 국토는 큰 산맥이나 하천을 중심으로 북부 지방, 중부 지방, 남부 지방으로 구분하고 있습니다.

전통적으로 지역을 어떻게 구분했을까요?

우리나라는 오래전부터 자연환경으로 지역을 구분했어요. 지역을 구분할 때는 산이나 호수, 강, 바다, 높은 고개 등의 자연적인 요소를 기준으로 하였어요. 지도와 함께 살펴보세요.

경기해의 서쪽에 있어서
해서 지방이라고 해요.

철령관을 기준으로 북
쪽을 **관북** 지방, 서쪽을
관서 지방이라고 해요.

철령관의 동쪽을 관동
지방이라고 하는데, **관동**
지방은 다시 태백산맥을
기준으로 **영동** 지방과 **영
서** 지방으로 나뉘어요.

내가 경기도야.

경기는 왕이 사는 도읍
(한양) 주변의 땅을 의
미해요.

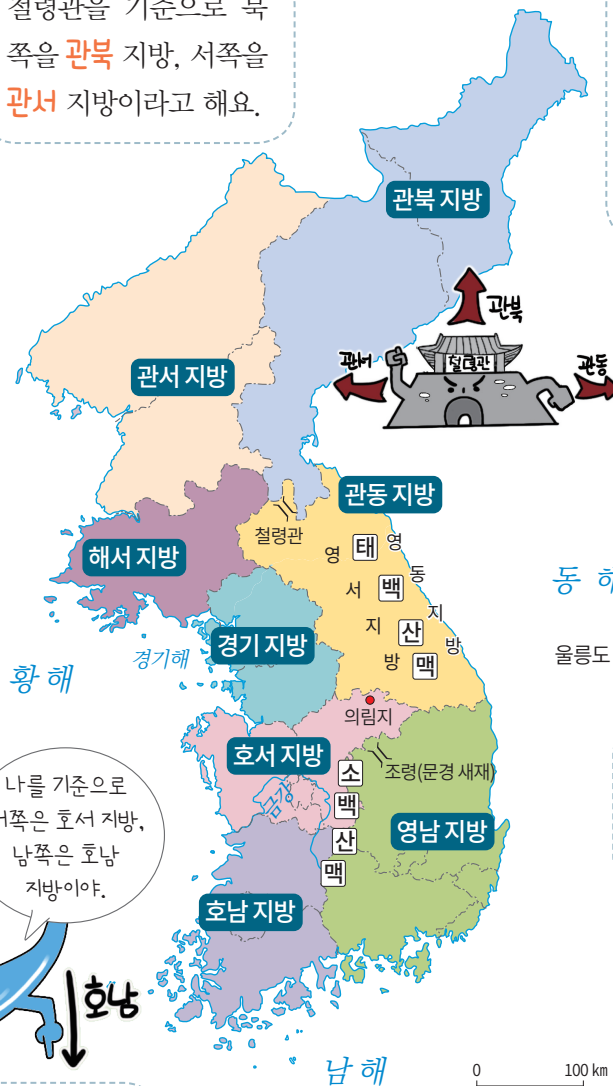
의림지와 금강의 옛 이
름인 '호강'의 서쪽에
있어서 **호서** 지방이라
고 해요.

나를 기준으로
서쪽은 호서 지방,
남쪽은 호남
지방이야.



금강의 옛 이름인 '호강'
의 남쪽에 있어서 **호남**
지방이라고 해요.

이어도



나를 기준으로
북쪽은 관북 지방,
서쪽은 관서 지방, 동쪽은
관동 지방이야.

조령(문경 새재)이라는
고개의 남쪽을 **영남** 지
방이라고 해요.



우리나라는 오래전부터 산이나 호수, 강, 바다 등
자연환경으로 지역을 구분하였습니다.
이러한 지역 구분 방식은 오늘날 행정 구역을 정
하는 기초가 되었습니다.



» 우리 국토의 지역 구분

- 북부 지방은 휴전선을 기준으로 북쪽인 지금의 북한 지역을 말한다.
- 중부 지방은 휴전선 남쪽에서 금강 하류와 소백산맥이 만나는 곳까지를 말한다.
- 남부 지방은 금강 하류와 소백산맥이 만나는 남쪽 지역을 말한다.

정리!

» 전통적인 지역 구분

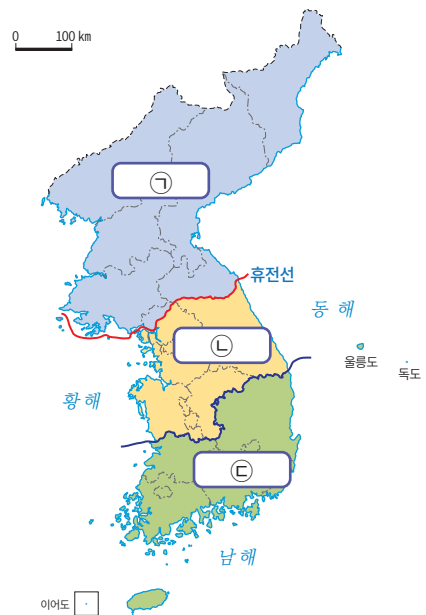
우리나라는 오래전부터 산, 호수, 강, 바다 등의 자연환경으로 지역을 구분했으며, 이러한 구분은 오늘날 행정 구역을 정하는 기초가 되었다.



1

오른쪽 지도에 나타난 우리 국토의 지역 구분을 보고, ㉠~㉢에 들어갈 말을 쓰세요.

- ㉠ : (북부 지방)
- ㉡ : (중부 지방)
- ㉢ : (남부 지방)



2

() 안에 들어갈 알맞은 말을 쓰세요.

- (1) 우리나라는 오래전부터 산, 바다, 강 등과 같은 (자연환경) 으로 지역을 구분했다.
- (2) (남부) 지방은 금강 하류와 소백산맥이 만나는 곳의 남쪽 지역을 말한다.
- (3) 오늘날 북부 지방과 중부 지방은 (휴전선) 을 경계로 구분하고 있다.

3

우리 국토의 전통적 지역 구분에서 다음은 각각 어느 지역에 관한 것인지 쓰세요.

- (1)

철령관을 기준으로 북쪽에 위치한 지역

(관북 지방)
- (2)

옛날에 왕이 살던 주변 지역이라고 해서 붙여진 이름

(경기 지방)
- (3)

금강의 옛 이름인 '호강'의 남쪽 지역이라고 해서 붙여진 이름

(호남 지방)