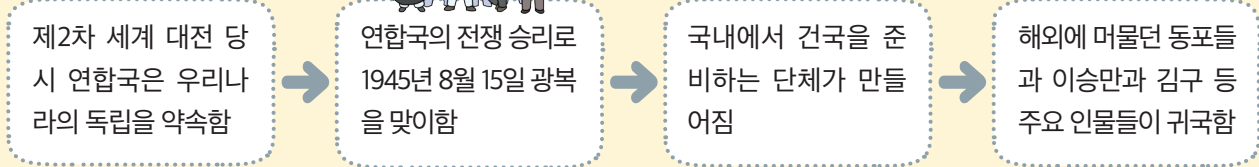


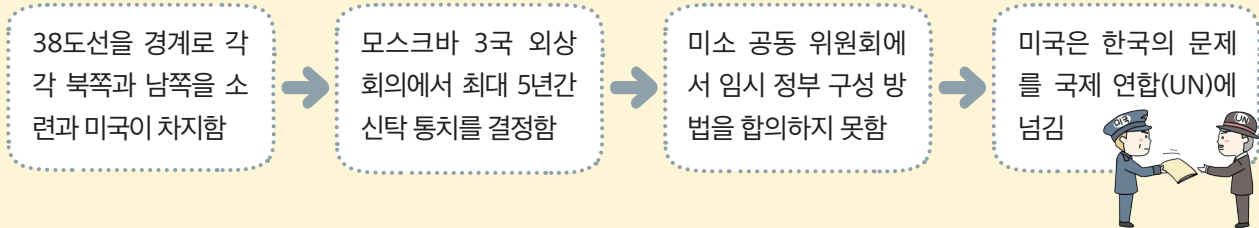
단원 정리하기



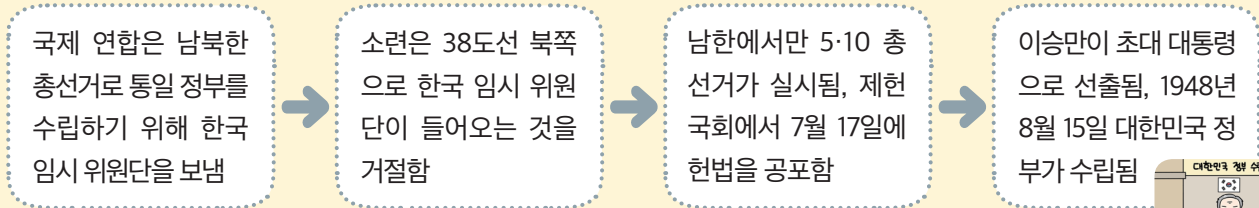
● 8·15 광복의 과정



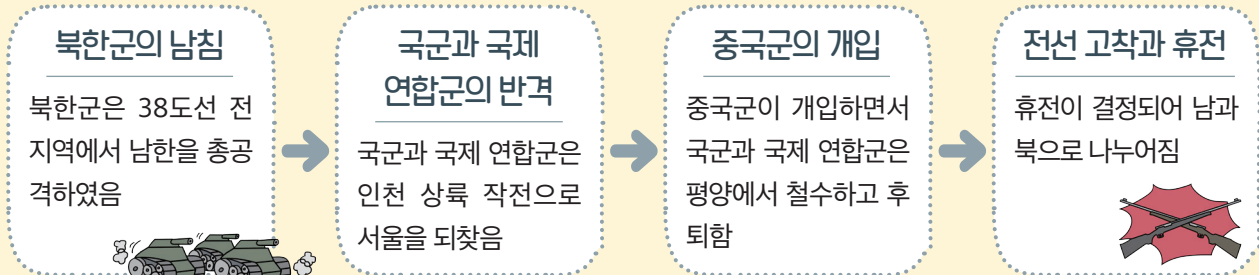
● 한반도 분단의 과정



● 대한민국 정부 수립의 과정



● 6·25 전쟁의 과정



완성 실력 문제

01 우리 민족이 광복을 맞이하게 된 까닭으로 옳은 것을 <보기>에서 모두 골라 기호를 쓰세요. ()


보기

- ㉠ 청일 전쟁에서 일본이 패배하였다.
- ㉡ 국내외 독립운동가들이 끊임없이 노력하였다.
- ㉢ 제2차 세계 대전에서 연합국이 일본에게 승리하였다.
- ㉣ 학교에서 우리말과 한글, 우리의 역사를 배울 수 있게 되었다.

[02~03] 다음 낱말 카드를 보고 물음에 답하세요.

38도선 국제 연합(UN) 신탁 통치 미소 공동 위원회

02 다음은 한반도 분단의 과정을 나타낸 것입니다. ㉠~㉣에 들어갈 알맞은 말을 골라 쓰세요.



㉠ _____ 을 한반도 문제를 처리
경계로 각각 북쪽 하기 위해 모스크바
과 남쪽에 소련과 3국 외상 회의가 열림
미국이 주둔함

㉡ _____ 에서 임시 정부 구성 방
법을 합의하지 못함

미국은 한국 문제를
㉢ _____ 에
넘김

03 다음은 모스크바 3국 외상 회의 결정 내용을 두고 우리나라가 서로 다른 입장에서 주장하는 내용입니다. ㉠에 공통으로 들어갈 알맞은 말을 골라 쓰세요.

㉠ _____ 는 자주적인
정부 수립을 방해하므로 반대합
니다.

㉡ _____ 를 하더라도 우선
임시 정부를 수립하면 더 빨리 자주
적인 정부 수립이 가능합니다.

04

다음은 대한민국 정부 수립에 관한 대화입니다. ㉠, ㉡에 들어갈 말을 쓰세요.

국제 연합이 통일 정부 수립을 위해 ㉠ _____ 를 결정했다는 것이 맞아?


응 맞아. 그런데 소련은 이를 반대해서 38도선 북쪽으로 한국 임시 위원단이 들어오는 것을 거절했어.

그렇구나! 국제 연합은 남한에서만 총선거를하기로 결정했고, 1948년 5월 10일에 첫 번째 민주 선거를 실시하였구나.

맞아. 5·10 총선거를 통해 구성된 ㉡ _____ 에서는 7월 17일에 헌법을 공포했어. 그리고 제헌 국회의 국회의장이었던 이승만이 초대 대통령으로 선출되면서 대한민국 정부가 수립되었지.

05

다음은 6·25 전쟁의 전개 과정입니다. ㉠~㉣에 들어갈 말을 쓰세요.



북한군의 남침으로 국군은 낙동강 이남 까지 후퇴함


㉠ _____ 으
로 국군과 국제 연합
군은 압록강까지 진
격함

㉡ _____ 의
개입으로 국군과 국
제 연합군은 평양에
서 철수하고 후퇴함

1953년 7월에
㉢ _____ 이
결정되어 남과 북
으로 나뉘어짐

도전 서술 문제

06 다음은 모스크바 3국 외상 회의 장면을 나타낸 그림입니다. 이 회의에서 결정된 내용이 무엇인지 제시된 단어를 활용하여 쓰세요.



키워드

임시 정부 | 신탁 통치

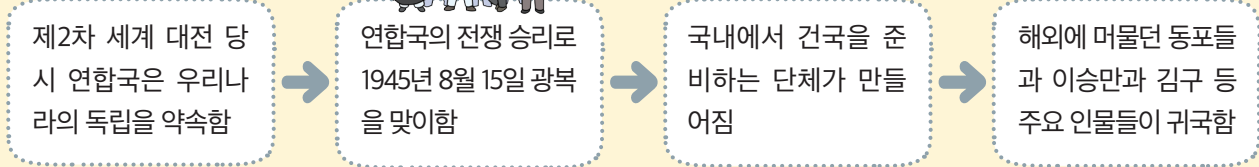
07 광복 이후 대한민국 정부 수립 과정에서 이승만과 김구가 주장한 내용을 ㉠, ㉡에 쓰세요.

- ① 국제 연합은 남북한 총선거로 통일 정부 수립을 결정하고 한국 임시 위원단을 한반도로 보냈다.
- ② 소련은 38도선 북쪽으로 한국 임시 위원단이 들어오는 것을 거절하였다.
- ③ 이승만은 ㉠ _____ 고 주장하였고, 김구는 ㉡ _____ 고 주장하였다.
- ④ 국제 연합은 남한에서만 총선거를하기로 결정하였다.

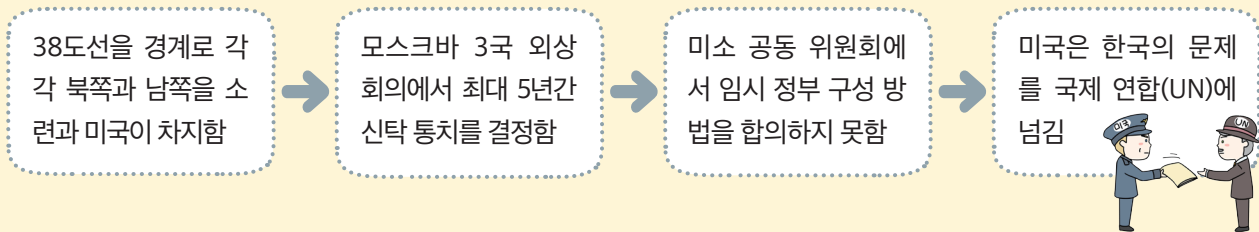
단원 정리하기



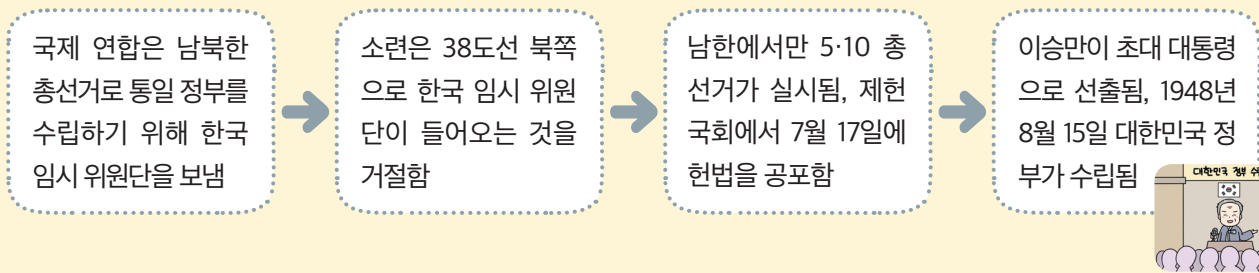
● 8·15 광복의 과정



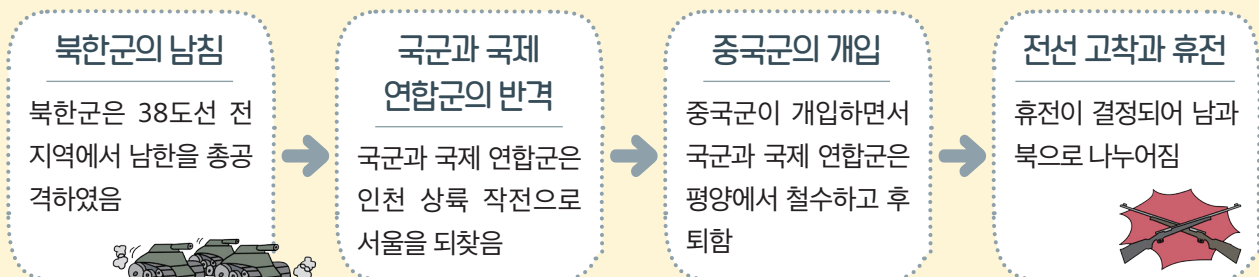
● 한반도 분단의 과정



● 대한민국 정부 수립의 과정



● 6·25 전쟁의 과정



완성 실력 문제

01 우리 민족이 광복을 맞이하게 된 까닭으로 옳은 것을 <보기>에서 모두 골라 기호를 쓰세요.
 (㉠, ㉡)

보기

- ㉠ 청일 전쟁에서 일본이 패배하였다.
- ㉡ 국내외 독립운동가들이 끊임없이 노력하였다.
- ㉢ 제2차 세계 대전에서 연합국이 일본에게 승리하였다.
- ㉣ 학교에서 우리말과 한글, 우리의 역사를 배울 수 있게 되었다.

[02~03] 다음 낱말 카드를 보고 물음에 답하세요.


38도선

국제 연합(UN)

신탁 통치

미소 공동 위원회

02 다음은 한반도 분단의 과정을 나타낸 것입니다. ㉠~㉣에 들어갈 알맞은 말을 골라 쓰세요.




- ㉠ 38도선 을 경계로 각각 북쪽과 남쪽에 소련과 미국이 주둔함
- ㉡ 미소 공동 위원회 에서 임시 정부 구성 방법을 합의하지 못함
- ㉢ 국제 연합(UN) 에 넘김
- ㉣ 신탁 통치 를 하더라도 우선 임시 정부를 수립하면 더 빨리 자주적인 정부 수립이 가능합니다.

03 다음은 모스크바 3국 외상 회의 결정 내용을 두고 우리나라가 서로 다른 입장에서 주장하는 내용입니다. ㉠에 공통으로 들어갈 알맞은 말을 골라 쓰세요.

㉠ 신탁 통치 는 자주적인 정부 수립을 방해하므로 반대합니다.


㉠ 신탁 통치 를 하더라도 우선 임시 정부를 수립하면 더 빨리 자주적인 정부 수립이 가능합니다.


04 다음은 대한민국 정부 수립에 관한 대화입니다. ㉠, ㉡에 들어갈 말을 쓰세요.



국제 연합이 통일 정부 수립을 위해 ㉠ **남북한 총선거** 를 결정했다는 것이 맞아?


응 맞아. 그런데 소련은 이를 반대해서 38도선 북쪽으로 한국 임시 위원단이 들어오는 것을 거절했어.






그렇구나! 국제 연합은 남한에서만 총선거를하기로 결정했고, 1948년 5월 10일에 첫 번째 민주 선거를 실시하였구나.

맞아. 5·10 총선거를 통해 구성된 ㉡ **제헌 국회** 에서는 7월 17일에 헌법을 공포했어. 그리고 제헌 국회의 국회의장이었던 이승만이 초대 대통령으로 선출되면서 대한민국 정부가 수립되었지.



05 다음은 6·25 전쟁의 전개 과정입니다. ㉠~㉣에 들어갈 말을 쓰세요.



북한군의 남침으로 국군은 낙동강 이남까지 후퇴함

㉠ **인천 상륙 작전** 으로 국군과 국제 연합군은 압록강까지 진격함

㉡ **중국군** 의 개입으로 국군과 국제 연합군은 평양에서 철수하고 후퇴함

1953년 7월에 ㉢ **휴전** 이 결정되어 남과 북으로 나뉘어짐



06 다음은 모스크바 3국 외상 회의 장면을 나타낸 그림입니다. 이 회의에서 결정된 내용이 무엇인지 제시된 단어를 활용하여 쓰세요.



키워드

임시 정부 | 신탁 통치

예시답안 모스크바 3국 외상 회의에서는 한반도에 임시 정부를 수립하고, 정부가 수립되기 전에 최대 5년간

신탁 통치를 실시한다는 내용이 결정되었다.

07 광복 이후 대한민국 정부 수립 과정에서 이승만과 김구가 주장한 내용을 ㉠, ㉡에 쓰세요.

- ① 국제 연합은 남북한 총선거로 통일 정부 수립을 결정하고 한국 임시 위원단을 한반도로 보냈다.
- ② 소련은 38도선 북쪽으로 한국 임시 위원단이 들어오는 것을 거절하였다.
- ③ 이승만은 ㉠ **예시답안** 남쪽만이라도 임시 정부 혹은 위원회를 조직해야 한다고 주장하였고, 김구는 ㉡ **예시답안** 자주독립적 통일 정부를 수립해야 한다고 주장하였다.
- ④ 국제 연합은 남한에서만 총선거를하기로 결정하였다.