

# 단원 정리하기



● 우리나라의 경제 성장 과정





6·25 전쟁 이후	1970년대 이후	1990년대 이후
<ul style="list-style-type: none"> <li>정부는 경제 개발 5개년 계획을 세우고 수출 도 움 시설을 건설 했다.</li> <li>정부는 수출 기업들의 세금을 내 려 주었다.</li> <li>기업은 주로 섬유, 신발, 가발, 의 류 등과 같은 경공업 제품을 수출 하며 성장했다.</li> </ul>	<ul style="list-style-type: none"> <li>정부는 중화학 공업 육성 계획을 발표하고 중화학 공업을 발전시키 고자 했다.</li> <li>정부는 기술력을 높이고자 교육 시 설과 연구소를 설 립했다.</li> <li>철강 산업, 석유 화학 산업, 조선 산업, 자동차 산업, 기계·전자 산 업 등이 발전했다.</li> </ul>	<ul style="list-style-type: none"> <li>컴퓨터와 전자 제 품의 핵심 부품인 반도체 산업이 발달했다.</li> <li>생명 공학, 우주 항공, 신소재 산 업, 로봇 산업과 같은 첨단 기술 산 업이 발달했다.</li> <li>사람들을 즐겁게 해 주고 편리하게 해 주는 서비스 산업이 발달했다.</li> <li>국내 총생산과 1인당 국민 총소득 이 큰 폭으로 증가했다.</li> </ul>

● 경제 성장에 따른 사회 변화




**경제 성장으로 변화한 사회 모습**

1960년대 흑백텔레비전 보급 → 1970년대 고속 국도 개통 → 1980년대 승용차 증가 → 1990년대 컴퓨터 보급 → 2000년대 고속 철도 개통 → 2010년대 인터넷 쇼핑 증가 등

**오늘날 경제 성장으로 변화한 생활 모습**

			
다양한 국제 행사 개최	해외 여행객의 증가	해외에서 한류 현상 확산	빈민국에 원조하는 국가로 변모

● 경제 성장 과정의 문제점과 해결 방안

<b>경제적 양극화</b> 	<ul style="list-style-type: none"> <li>가난한 사람과 부유한 사람 사이의 소득 차이가 점점 커졌다.</li> <li>관련 법률 제정, 정부의 지원, 시민 단체의 봉사 활동 등 여러 노력을 한다.</li> </ul>
<b>노사 갈등</b> 	<ul style="list-style-type: none"> <li>근로자와 경영자 사이에 갈등이 확산되 기도 한다.</li> <li>정부의 일자리 창출, 근로자와 기업가의 대화와 타협 등 여러 노력을 한다.</li> </ul>
<b>환경 오염</b> 	<ul style="list-style-type: none"> <li>경제 개발로 공기와 물, 땅 등의 환경이 오염되고, 자원도 부족해졌다.</li> <li>정부, 기업, 시민들은 환경을 먼저 생각 하고 보호하고자 노력한다.</li> </ul>




# 완성 실력 문제

[01~04] 다음 낱말 카드를 보고 물음에 답하세요.

조선 산업	생명 공학	섬유 산업	로봇 산업
자동차 산업	식료품 산업	석유 화학 산업	문화 콘텐츠 산업

**01** 비교적 가벼운 물건을 만드는 산업인 경공업을 모두 골라 쓰세요. ( )

**02** 다음 그림에 해당하는 산업을 골라 쓰세요.

(1) 	(2) 	(3) 
( )	( )	( )

**03** 02번 그림들과 같이 비교적 무거운 물건을 만들거나 원유를 이용해 다양한 물건을 만드는 산업을 무엇이라고 하는지 쓰세요. ( )

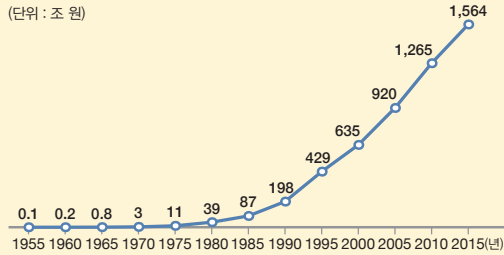
**04** 생명 공학과 로봇 산업의 공통점으로 알맞은 것을 <보기>에서 모두 골라 기호를 쓰세요. ( )

**보기**

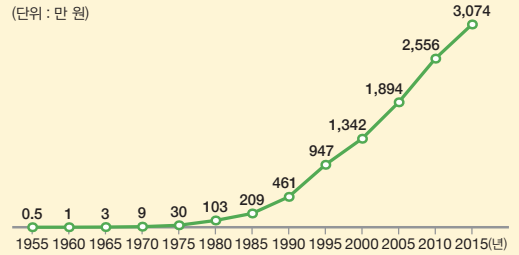
- ㉠ 2000년대 이후 발전한 산업이다.
- ㉡ 첨단 기술을 필요로 하는 산업이다.
- ㉢ 비교적 무거운 물건을 만드는 산업이다.
- ㉣ 기술은 필요 없지만 많은 노동력이 필요한 산업이다.

# 05

다음은 우리나라의 국내 총생산과 1인당 국민 총소득의 변화 모습입니다. ㉠, ㉡에 들어갈 알맞은 말을 쓰세요.



우리나라 국내 총생산의 변화



우리나라 1인당 국민 총소득의 변화

국내 총생산은 ㉠

1인당 국민 총소득은 ㉡

의 양을 돈으로 계산해 합한 것이다.

을 그 나라의 인구수로 나눈 것이다.

# 06

다음 대화의 ㉠, ㉡에 들어갈 알맞은 말을 쓰세요.



경제 성장 과정에서 나타난 경제적 양극화 문제를 해결하기 위해 어떤 노력을 하고 있을까?

국회는 국민 기초 생활 보장법, 장애인 복지법 등

㉠

사회적 약자를 보호하고 있어.



그렇구나! 정부는 가난한 사람들에게 생계비와 양육비, 학비 등을 지원해 불평등이 발생하지 않도록 노력한다고 하던데. 민간에서 하고 있는 노력도 있을까?

응. 민간의 시민 단체에서는 저소득층, 홀로 사는 노인, 장애인 등


㉡

을 하고 있어.



# 도전 서술 문제

07 정부가 1960년대 **가**와 같은 공업 중심 산업 구조에서 1970년대 **나**와 같은 공업 중심의 산업 구조로 바꾸려고 한 까닭을 제시된 단어를 활용하여 쓰세요.




**키워드**    필요한 재료    |    수입    |    선진국    |    수입 규제

-----

-----

08 다음은 경제 성장으로 변화한 우리나라의 생활 모습을 나타낸 그림입니다. 이러한 생활 모습이 나타난 까닭을 쓰세요.



-----

-----

-----

# 단원 정리하기

# 10



제  
10  
단

## ● 우리나라의 경제 성장 과정

### 6·25 전쟁 이후

- 정부는 경제 개발 5개년 계획을 세우고 수출 도 움 시설을 건설 했다.
- 정부는 수출 기업들의 세금을 내 려 주었다.
- 기업은 주로 섬유, 신발, 가발, 의 류 등과 같은 경공업 제품을 수출 하며 성장했다.



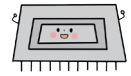
### 1970년대 이후

- 정부는 중화학 공업 육성 계획을 발표하고 중화학 공업을 발전시키 고자 했다.
- 정부는 기술력을 높이고자 교육 시 설과 연구소를 설 립했다.
- 철강 산업, 석유 화학 산업, 조선 산업, 자동차 산업, 기계·전자 산 업 등이 발전했다.



### 1990년대 이후

- 컴퓨터와 전자 제 품의 핵심 부품인 반도체 산업이 발달했다.
- 생명 공학, 우주 항공, 신소재 산 업, 로봇 산업과 같은 첨단 기술 산 업이 발달했다.
- 사람들을 즐겁게 해 주고 편리하게 해 주는 서비스 산업이 발달했다.
- 국내 총생산과 1인당 국민 총소득 이 큰 폭으로 증가했다.



## ● 경제 성장에 따른 사회 변화

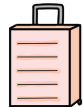
### 경제 성장으로 변화한 사회 모습

1960년대 흑백텔레비전 보급 → 1970년대 고속 국도 개통 → 1980년대 승용차 증가 → 1990년대 컴퓨터 보 급 → 2000년대 고속 철도 개통 → 2010년대 인터넷 쇼핑 증가 등

### 오늘날 경제 성장으로 변화한 생활 모습



다양한 국제 행사 개최



해외 여행객의 증가



해외에서 한류 현상 확산



빈민국에 원조하는 국가로 변모

## ● 경제 성장 과정의 문제점과 해결 방안

### 경제적 양극화



- 가난한 사람과 부유한 사람 사이의 소득 차이가 점점 커졌다.
- 관련 법률 제정, 정부의 지원, 시민 단체의 봉사 활동 등 여러 노력을 한다.

### 노사 갈등



- 근로자와 경영자 사이에 갈등이 확산되 기도 한다.
- 정부의 일자리 창출, 근로자와 기업가의 대화와 타협 등 여러 노력을 한다.

### 환경 오염



- 경제 개발로 공기와 물, 땅 등의 환경이 오염되고, 자원도 부족해졌다.
- 정부, 기업, 시민들은 환경을 먼저 생각 하고 보호하고자 노력한다.

# 완성 실력 문제


[01~04] 다음 낱말 카드를 보고 물음에 답하세요.

- |        |        |          |           |
|--------|--------|----------|-----------|
| 조선 산업  | 생명 공학  | 섬유 산업    | 로봇 산업     |
| 자동차 산업 | 식료품 산업 | 석유 화학 산업 | 문화 콘텐츠 산업 |

**01** 비교적 가벼운 물건을 만드는 산업인 경공업을 모두 골라 쓰세요.

( 섬유 산업, 식료품 산업 )


**02** 다음 그림에 해당하는 산업을 골라 쓰세요.



( 석유 화학 산업 )



( 자동차 산업 )



( 조선 산업 )

**03** 02번 그림들과 같이 비교적 무거운 물건을 만들거나 원유를 이용해 다양한 물건을 만드는 산업을 무엇이라고 하는지 쓰세요.

( 중화학 공업 )

**04** 생명 공학과 로봇 산업의 공통점으로 알맞은 것을 <보기>에서 모두 골라 기호를 쓰세요.

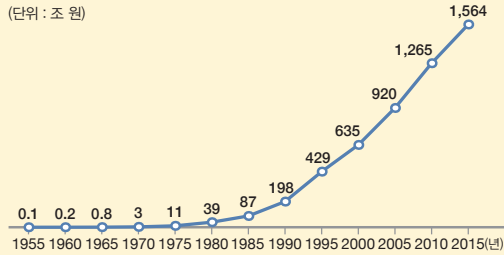
( ㉠, ㉡ )

보기

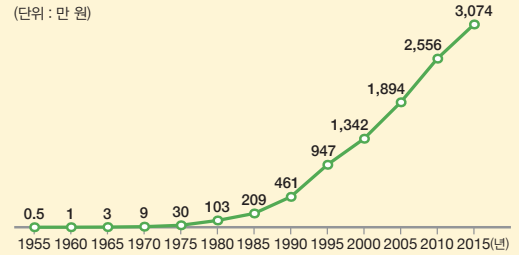
- ㉠ 2000년대 이후 발전한 산업이다.
- ㉡ 첨단 기술을 필요로 하는 산업이다.
- ㉢ 비교적 무거운 물건을 만드는 산업이다.
- ㉣ 기술은 필요 없지만 많은 노동력이 필요한 산업이다.

## 05

다음은 우리나라의 국내 총생산과 1인당 국민 총소득의 변화 모습입니다. ㉠, ㉡에 들어갈 알맞은 말을 쓰세요.



우리나라 국내 총생산의 변화



우리나라 1인당 국민 총소득의 변화

국내 총생산은 ㉠ **일정 기간에 한 나라 안에서 생산된 물건과 서비스**

의 양을 돈으로 계산해 합한 것이다.

1인당 국민 총소득은 ㉡ **일정 기간에 한 나라의 국민이 벌어들인 소득**

을 그 나라의 인구수로 나눈 것이다.

## 06

다음 대화의 ㉠, ㉡에 들어갈 알맞은 말을 쓰세요.



경제 성장 과정에서 나타난 경제적 양극화 문제를 해결하기 위해 어떤 노력을 하고 있을까?

국회는 국민 기초 생활 보장법, 장애인 복지법 등

㉠ **여러 복지 관련 법률을 만들어** 사회적 약자를 보호하고 있어.



그렇구나! 정부는 가난한 사람들에게 생계비와 양육비, 학비 등을 지원해 불평등이 발생하지 않도록 노력한다고 하던데. 민간에서 하고 있는 노력도 있을까?


응. 민간의 시민 단체에서는 저소득층, 홀로 사는 노인, 장애인 등

㉡ **사회적 약자를 보호하고자 다양한 봉사 활동** 을 하고 있어.





07 정부가 1960년대 **가**와 같은 공업 중심 산업 구조에서 1970년대 **나**와 같은 공업 중심의 산업 구조로 바꾸려고 한 까닭을 제시된 단어를 활용하여 쓰세요.




**키워드** 필요한 재료 | 수입 | 선진국 | 수입 규제

**예시답안** 필요한 재료들을 대부분 다른 나라에서 수입해야 했고, 선진국이 경공업 제품에 대한 수입 규제 등을 강화하는 등 부작용이 뒤따랐기 때문이다.

08 다음은 경제 성장으로 변화한 우리나라의 생활 모습을 나타낸 그림입니다. 이러한 생활 모습이 나타난 까닭을 쓰세요.



**예시답안** 가계의 소득이 증가해 여가를 즐기고자 하는 사람들이 늘어났기 때문이다.



**예시답안** 우리나라의 엔터테인먼트 산업이 발달하면서 우수한 콘텐츠가 많이 만들어졌기 때문이다.