

우리 땅 독도

01




제목

내용

해 보기

다음 지도를 보고, ㉠~㉣에 알맞은 말을 쓰세요.

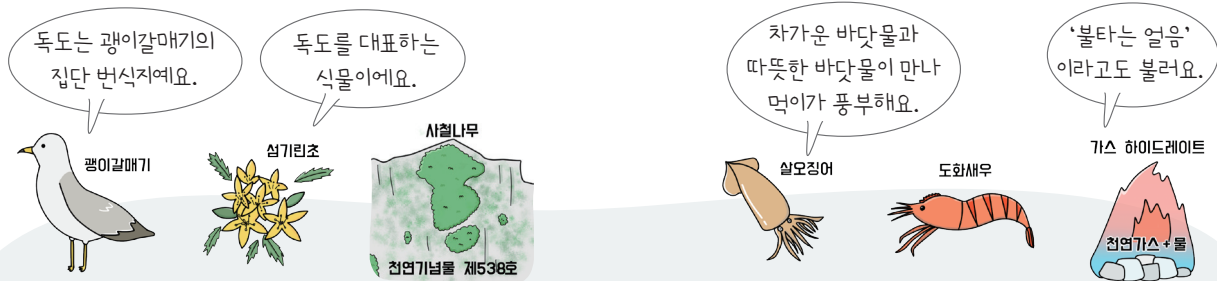


- 독도는 북위 37°, 동경 132°에 가까이 있다.
- 독도에서 (㉠)까지의 거리가 일본 오키섬까지의 거리보다 약 70km 더 가깝다.
- 독도는 우리나라의 (㉢) 끝에 있는 섬으로, (㉡)의 한가운데 자리잡고 있어 선박의 항로뿐만 아니라 군사적으로도 중요한 위치에 있다.

독도의 자연환경을 살펴볼까요?



독도는 서도와 동도인 두 개의 큰 섬과 주위에 89개의 바위섬이 있어요. 독도는 화산 활동으로 만들어진 섬으로 대부분 암석으로 되어 있으며, 독특한 지형과 경관이 나타나요.



독도는 다양한 동식물이 서식하는 생태계의 보고로, 우리나라는 독도를 천연기념물 제 336호로 지정해 보호하고 있어요.

독도 주변 바다는 해양 생물이 살기 좋으며, 바다 밑에는 미래 에너지원으로 주목받는 가스 하이드레이트가 묻혀 있어요.

독도를 지키려는 노력



조선 시대 안용복은 일본에 가서 울릉도와 독도가 우리 영토임을 확인받았어요.

오늘날 정부는 등대, 선박 접안 시설 등을 설치했으며, 독도를 보호하기 위해 여러 법령을 시행하고 있어요.

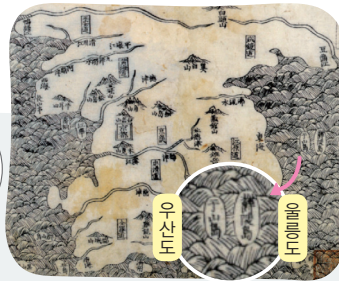
오늘날 여러 민간단체는 외국에 독도가 우리 영토임을 알리는 다양한 홍보 활동을 하고 있어요.

독도가 우리 영토인 근거는 무엇일까요?

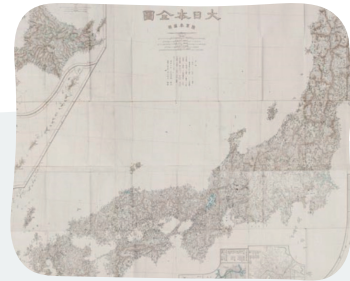
옛 지도

우리는 독도를 우리 땅으로 생각하고 지도에 그렸어.

일본은 독도를 일본 땅이라고 생각하지 않아서 지도에 그리지 않았어.



팔도총도(1531년)는 현존하는 우리나라 옛 지도 중 우산도(독도)가 표기된 가장 오래된 지도예요.



대일본전도(1877년)는 일본 영토를 자세히 그려 놓았지만, 독도가 표기되어 있지 않아요.

옛 기록



옛 지도와 기록에는 독도가 우리나라의 영토라는 사실이 나타나 있습니다.



- ① **세종실록지리지**(1454년)에는 우산(독도)과 무릉(울릉도)이 동쪽 바다에 있고, 맑은 날씨는 두 섬이 서로 볼 수 있다고 쓰여 있어요.
- ② **대한 제국 칙령 제41호 제2조**(1900년)에는 울릉도에 울릉군청을 두고, 독도까지 관할한다고 쓰여 있어요.
- ③ **연합국 최고 사령관 각서 제677호**(1946년)에는 울릉도와 독도를 일본의 영토에서 제외한다는 사실이 쓰여 있어요.

독도가 우리 영토임을 알리는 활동




독도 홍보 포스터 그리기



독도 캐릭터 만들기



독도를 홍보하는 동영상 만들기



독도를 지키려고 노력하는 사람이나 단체 소개하기

» 독도의 위치와 자연환경

- 독도는 우리나라의 동쪽 끝에 있는 섬으로, 선박의 항로뿐만 아니라 군사적으로도 중요한 위치에 있다.
- 독도는 화산섬으로 생태적으로 소중하며, 각종 자원을 얻을 수 있는 중요한 가치가 있는 곳이다.

» 독도가 우리 영토인 근거와 독도를 지키려는 노력

정리!



- 옛 지도와 기록에는 독도가 우리나라의 영토라는 사실이 나타나 있다.
- 독도를 지키기 위해 여러 사람의 노력이 있었다는 사실을 알고, 우리는 독도에 관심을 갖고 독도를 지키려는 노력을 해야 한다.

1

독도에 관한 설명으로 맞으면 ○표, 틀리면 ×표 하세요.

- (1) 독특한 지형과 경관을 지닌 화산섬이다. ()
- (2) 세 개의 큰 섬과 그 주위에 79개의 바위섬으로 이루어졌다. ()
- (3) 경사가 급하고 대부분 암석으로 이루어져 있어 동식물이 서식하기 어렵다. ()
- (4) 바다의 밑바닥에는 미래 에너지원으로 주목받는 가스 하이드레이트가 묻혀 있다. ()

2

다음은 독도가 우리나라의 영토임을 알 수 있는 역사적 자료입니다. 이와 관련된 설명을 선으로 이어 보세요.

- | | | |
|-------------------------|---|--|
| (1) 팔도총도 | • | • ㉠ 울릉도와 독도를 일본의 영토에서 제외한다는 사실이 쓰여 있다. |
| (2) 세종실록지리지 | • | • ㉡ 현존하는 우리나라 옛 지도 중 우산도(독도)가 표기된 가장 오래된 지도이다. |
| (3) 연합국 최고 사령관 각서 제677호 | • | • ㉢ 우산(독도)과 무릉(울릉도)이 동쪽 바다에 있고, 맑은 날씨에는 두 섬이 서로 볼 수 있다고 쓰여 있다. |

3

정부와 민간단체들이 독도를 지키려고 어떤 노력을 하고 있는지 쓰세요.

우리 땅 독도

01




제목

내용

해 보기

★ 바른 답 확인하기 17쪽

다음 지도를 보고, ㉠~㉣에 알맞은 말을 쓰세요.

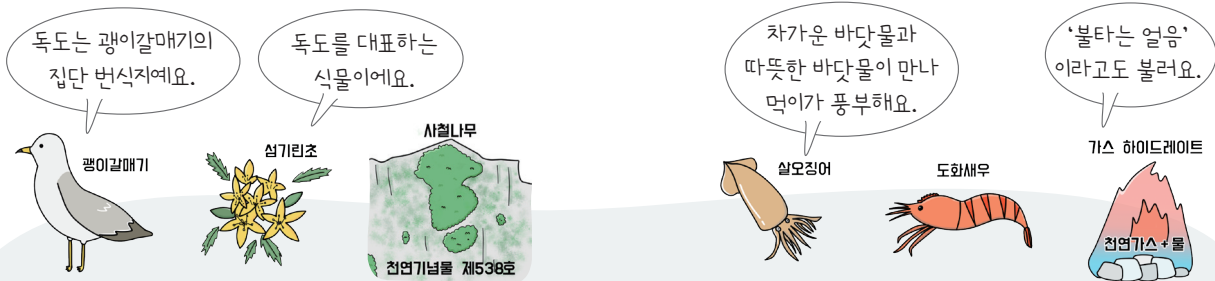


- 독도는 북위 37°, 동경 132°에 가까이 있다.
- 독도에서 (㉠ 울릉도)까지의 거리가 일본 오키섬까지의 거리보다 약 70km 더 가깝다.
- 독도는 우리나라의 (㉢ 동쪽) 끝에 있는 섬으로, (㉡ 동해)의 한가운데 자리잡고 있어 선박의 항로뿐만 아니라 군사적으로도 중요한 위치에 있다.

독도의 자연환경을 살펴볼까요?



독도는 서도와 동도인 두 개의 큰 섬과 주위에 89개의 바위섬이 있어요. 독도는 화산 활동으로 만들어진 섬으로 대부분 암석으로 되어 있으며, 독특한 지형과 경관이 나타나요.



독도는 꿩이갈매기의 집단 번식지예요. 독도를 대표하는 식물이예요. 시월나무 천연기념물 제538호

차가운 바닷물과 따뜻한 바닷물이 만나 먹이가 풍부해요. '불타는 얼음'이라고도 불러요. 천연가스+물

독도를 지키려는 노력



조선 시대 안용복은 일본에 가서 울릉도와 독도가 우리 영토임을 확인받았어요.



오늘날 정부는 등대, 선박 접안 시설 등을 설치했으며, 독도를 보호하기 위해 여러 법령을 시행하고 있어요.



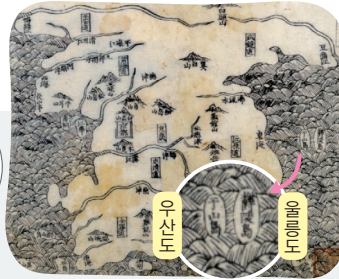
오늘날 여러 민간단체는 외국에 독도가 우리 영토임을 알리는 다양한 홍보 활동을 하고 있어요.

독도가 우리 영토인 근거는 무엇일까요?

옛 지도

우리는 독도를 우리 땅으로 생각하고 지도에 그렸어.

일본은 독도를 일본 땅이라고 생각하지 않아서 지도에 그리지 않았어.



팔도총도(1531년)는 현존하는 우리나라 옛 지도 중 우산도(독도)가 표기된 가장 오래된 지도예요.



대일본전도(1877년)는 일본 영토를 자세히 그려 놓았지만, 독도가 표기되어 있지 않아요.

옛 기록



옛 지도와 기록에는 독도가 우리나라의 영토라는 사실이 나타나 있습니다.



- 1 **세종실록지리지**(1454년)에는 우산(독도)과 무릉(울릉도)이 동쪽 바다에 있고, 맑은 날씨는 두 섬이 서로 볼 수 있다고 쓰여 있어요.
- 2 **대한 제국 칙령 제41호 제2조**(1900년)에는 울릉도에 울릉군청을 두고, 독도까지 관할한다고 쓰여 있어요.
- 3 **연합국 최고 사령관 각서 제677호**(1946년)에는 울릉도와 독도를 일본의 영토에서 제외한다는 사실이 쓰여 있어요.

독도가 우리 영토임을 알리는 활동




독도 홍보 포스터 그리기



독도 캐릭터 만들기



독도를 홍보하는 동영상 만들기



독도를 지키려고 노력하는 사람이나 단체 소개하기



» 독도의 위치와 자연환경

- 독도는 우리나라의 동쪽 끝에 있는 섬으로, 선박의 항로뿐만 아니라 군사적으로도 중요한 위치에 있다.
- 독도는 화산섬으로 생태적으로 소중하며, 각종 자원을 얻을 수 있는 중요한 가치가 있는 곳이다.

» 독도가 우리 영토인 근거와 독도를 지키려는 노력

- 옛 지도와 기록에는 독도가 우리나라의 영토라는 사실이 나타나 있다.
- 독도를 지키기 위해 여러 사람의 노력이 있었다는 사실을 알고, 우리는 독도에 관심을 갖고 독도를 지키려는 노력을 해야 한다.

정리!



1

독도에 관한 설명으로 맞으면 ○표, 틀리면 ×표 하세요.

- (1) 독특한 지형과 경관을 지닌 화산섬이다. (○)
- (2) 세 개의 큰 섬과 그 주위에 79개의 바위섬으로 이루어졌다. (×)
- (3) 경사가 급하고 대부분 암석으로 이루어져 있어 동식물이 서식하기 어렵다. (×)
- (4) 바다의 밑바닥에는 미래 에너지원으로 주목받는 가스 하이드레이트가 묻혀 있다. (○)

2

다음은 독도가 우리나라의 영토임을 알 수 있는 역사적 자료입니다. 이와 관련된 설명을 선으로 이어 보세요.

- | | | |
|-------------------------|--|--|
| (1) 팔도총도 | | ㉠ 울릉도와 독도를 일본의 영토에서 제외한다는 사실이 쓰여 있다. |
| (2) 세종실록지리지 | | ㉡ 현존하는 우리나라 옛 지도 중 우산도(독도)가 표기된 가장 오래된 지도이다. |
| (3) 연합국 최고 사령관 각서 제677호 | | ㉢ 우산(독도)과 무릉(울릉도)이 동쪽 바다에 있고, 맑은 날씨에는 두 섬이 서로 볼 수 있다고 쓰여 있다. |

3

정부와 민간단체들이 독도를 지키려고 어떤 노력을 하고 있는지 쓰세요.

예시답안 외국에 독도를 알릴 수 있는 홍보 활동을 다양하게 하고 있으며, 독도를 잘못 소개한 정보와

자료를 찾아 수정을 요구하는 등의 노력을 계속하고 있다.