

# 내가 먹는 피자 양 알아보기

월 일 요일


반 번

이름

◆ 피자 한 판을 친구들과 똑같은 크기로 잘라 나누어 먹으려고 합니다. 각각의 경우를 피자 위에 색칠해 보고, 한 명이 먹는 피자의 양을 분수로 나타내 보세요.


2명이 똑같이 나누어 먹는 경우

한 명이 먹는 피자의 양:

$$\frac{\square}{\square}$$



3명이 똑같이 나누어 먹는 경우

한 명이 먹는 피자의 양:

$$\frac{\square}{\square}$$



6명이 똑같이 나누어 먹는 경우

한 명이 먹는 피자의 양:

$$\frac{\square}{\square}$$


8명이 똑같이 나누어 먹는 경우

한 명이 먹는 피자의 양:

$$\frac{\square}{\square}$$


## 같이놀기 tip

나누어진 피자 조각을 가위로 잘라 보세요. 잘린 조각을 보고 단위분수로 표현해 볼 수도 있어요.

# 내가 먹는 피자 양 알아보기

월 일 요일

반 번

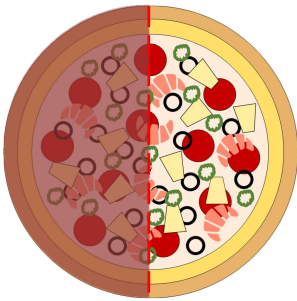
이름

◆ 피자 한 판을 친구들과 똑같은 크기로 잘라 나누어 먹으려고 합니다. 각각의 경우를 피자 위에 색칠해 보고, 한 명이 먹는 피자의 양을 분수로 나타내 보세요.

2명이 똑같이 나누어 먹는 경우

한 명이 먹는 피자의 양:

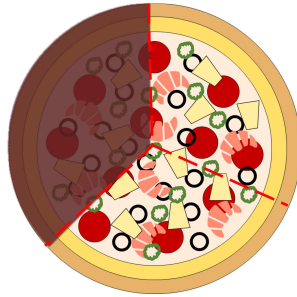
$$\frac{1}{2}$$



3명이 똑같이 나누어 먹는 경우

한 명이 먹는 피자의 양:

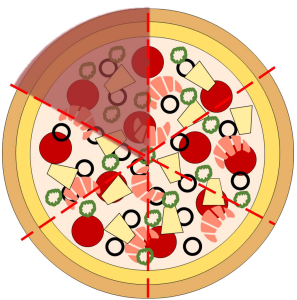
$$\frac{1}{3}$$



6명이 똑같이 나누어 먹는 경우

한 명이 먹는 피자의 양:

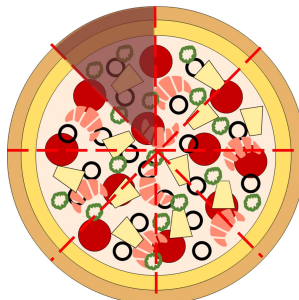
$$\frac{1}{6}$$



8명이 똑같이 나누어 먹는 경우

한 명이 먹는 피자의 양:

$$\frac{1}{8}$$



### 같이놀기 tip

나누어진 피자 조각을 가위로 잘라 보세요. 잘린 조각을 보고 단위분수로 표현해 볼 수도 있어요.