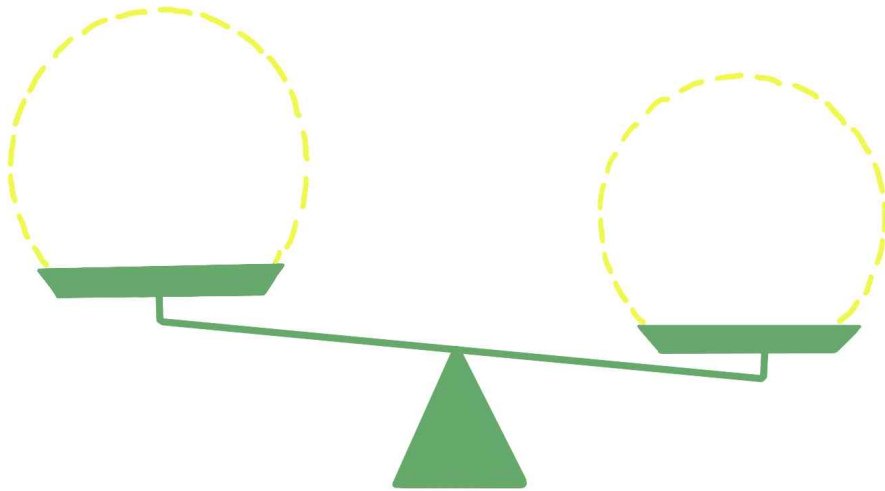


무엇이 더 무거운지 비교하기

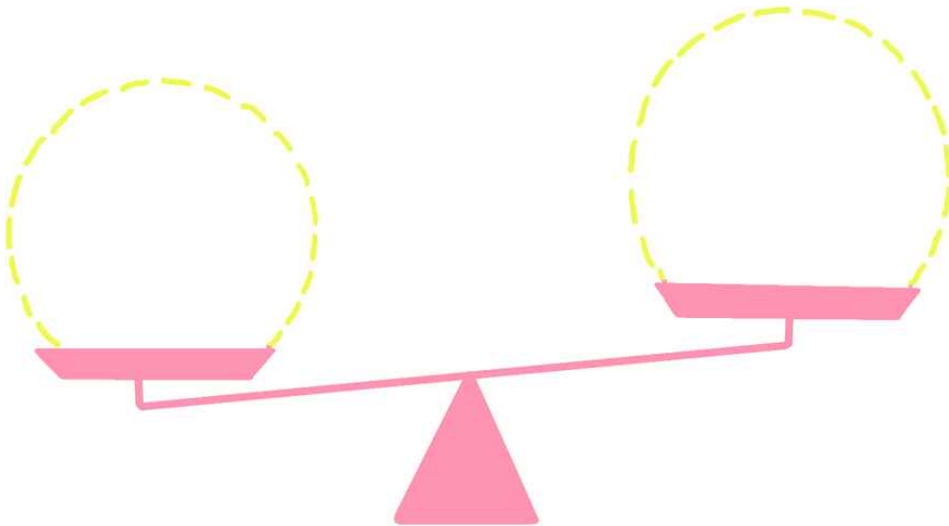
월	일	요일
	반	면
이름		

◆ 여러 가지 물건의 무게를 손, 양팔저울 등을 이용하여 비교해 보고 저울의 기울기에 맞게 그려 봅시다.

1 내 필통 속 두 가지 물건의 무게를 비교해 봅시다.



2 내 필통과 짝꿍 필통의 무게를 비교해 봅시다.



같이놀기 tip

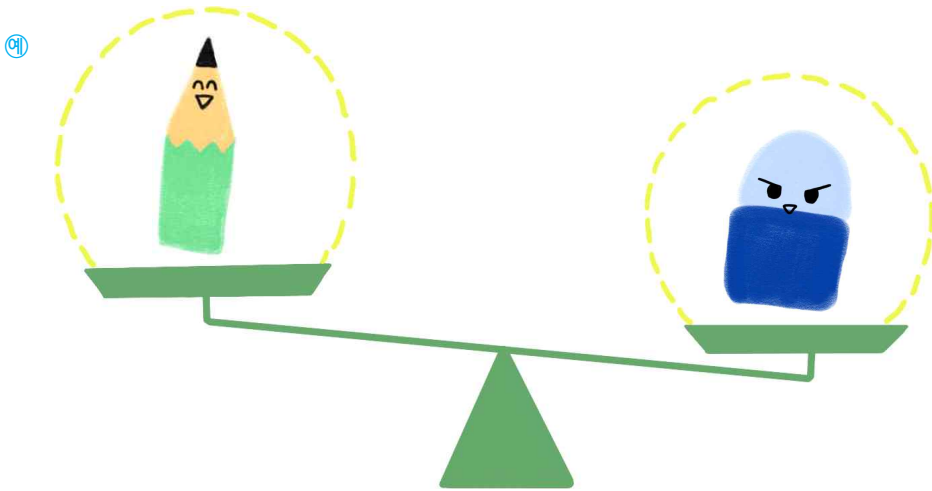
우리 모둠 또는 우리 반에서 가장 무거운 필통을 찾아 보세요.

무엇이 더 무거운지 비교하기

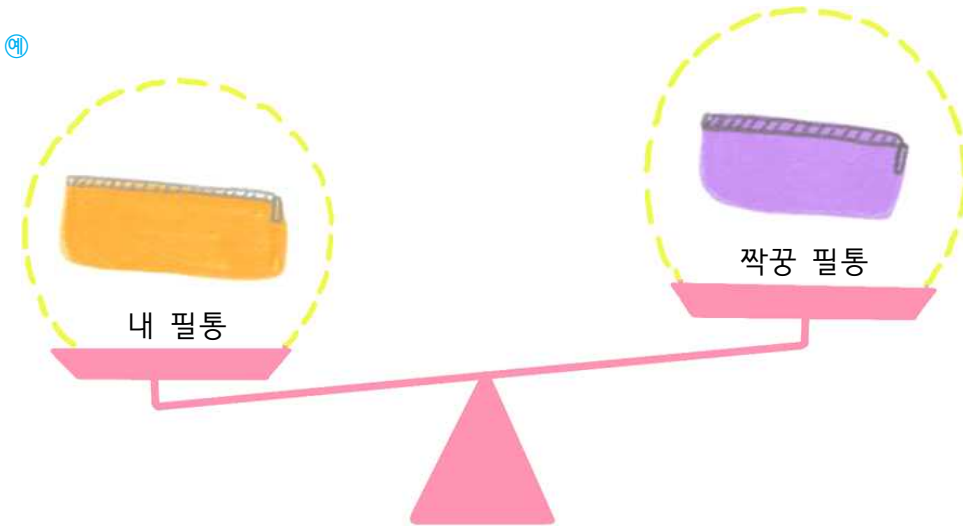
월	일	요일
	반	면
이름		

◆ 여러 가지 물건의 무게를 손, 양팔저울 등을 이용하여 비교해 보고 저울의 기울기에 알맞게 그려 봅시다.

1 내 필통 속 두 가지 물건의 무게를 비교해 봅시다.



2 내 필통과 짝꿍 필통의 무게를 비교해 봅시다.



같이놀기 tip

우리 모둠 또는 우리 반에서 가장 무거운 필통을 찾아 보세요.