










# 동물의 수 구하기

## 1 다음을 보고 각각의 동물이 몇 마리 있는지 알아보세요.

	내가 문제를 낼게. 각각의 동물이 마리인지 구하면 돼. 한 번 맞혀봐.
	좋아. 힌트 부탁해.
	<ul style="list-style-type: none"> <li>- 동물은 총 16마리가 있어.</li> <li>- 그리고 다리를 합하면 총 74개야.</li> <li>- 강아지는 닭의 수보다 2배이고, 고양이는 오징어의 수의 2배야.</li> <li>- 닭의 수는 거미와 오징어의 수를 합한 것과 같아.</li> <li>- 강아지는 현재 6마리가 있어.</li> <li>- 그리고 거미는 한 마리가 있어.</li> <li>- 오징어의 다리는 모두 몇 개일까?</li> </ul>
	알겠다. 정답은...





## 2 오징어의 다리 수의 합은?






### 같이놀이 tip

조건을 바꾸어 문제와 답 사이의 대응 관계를 찾아 보도록 하세요.

# 동물의 수 구하기

## 1 다음을 보고 각각의 동물이 몇 마리 있는지 알아보세요.

	내가 문제를 낼게. 각각의 동물이 마리인지 구하면 돼. 한 번 맞혀봐.
	좋아. 힌트 부탁해.
	<ul style="list-style-type: none"> <li>- 동물은 총 16마리가 있어.</li> <li>- 그리고 다리를 합하면 총 74개야.</li> <li>- 강아지는 닭의 수보다 2배이고, 고양이는 오징어의 수의 2배야.</li> <li>- 닭의 수는 거미와 오징어의 수를 합한 것과 같아.</li> <li>- 강아지는 현재 6마리가 있어.</li> <li>- 그리고 거미는 한 마리가 있어.</li> <li>- 오징어의 다리는 모두 몇 개일까?</li> </ul>
	알겠다. 정답은...

				
3마리	4마리	6마리	1마리	2마리

## 2 오징어의 다리 수의 합은? 20개

### 같이놀기 tip

조건을 바꾸어 문제와 답 사이의 대응 관계를 찾아 보도록 하세요.