



선대칭도형의 반쪽 완성하기

◆ 다음 도형들은 모두 선대칭도형인데 반쪽이 지워졌습니다. 나머지 반을 완성해 주세요.

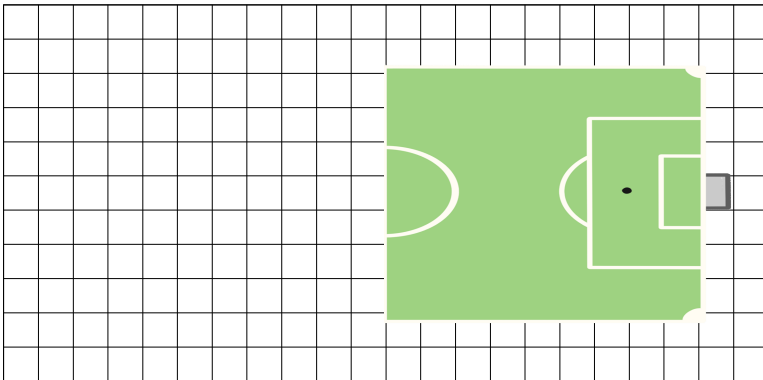
1) 진저브레드 맨



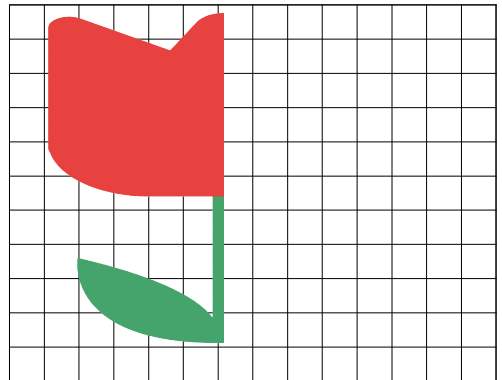
2) 컬링 경기장



3) 축구 경기장



4) 튤립




같이놀이 tip

주위에 있는 다른 선대칭도형들을 찾아봅시다.


선대칭도형의 반쪽 완성하기

◆ 다음 도형들은 모두 선대칭도형인데 반쪽이 지워졌습니다. 나머지 반을 완성해 주세요.

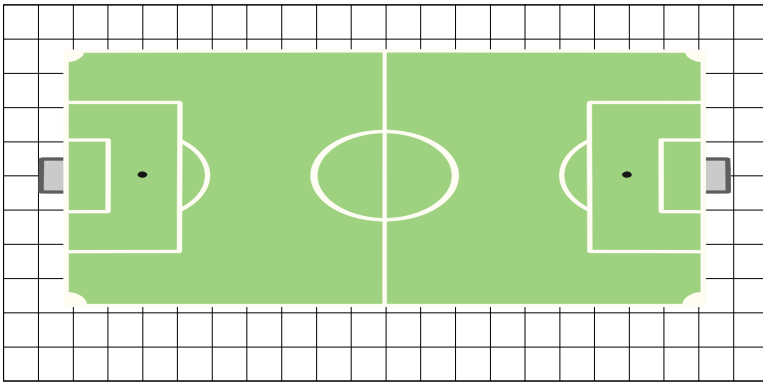
1) 진저브레드 맨



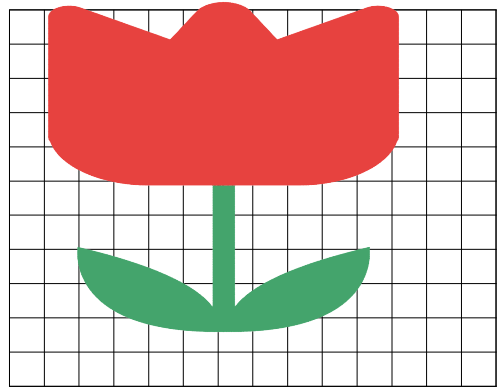
2) 컬링 경기장



3) 축구 경기장



4) 튤립



같이놀이 tip

주위에 있는 다른 선대칭도형들을 찾아봅시다.