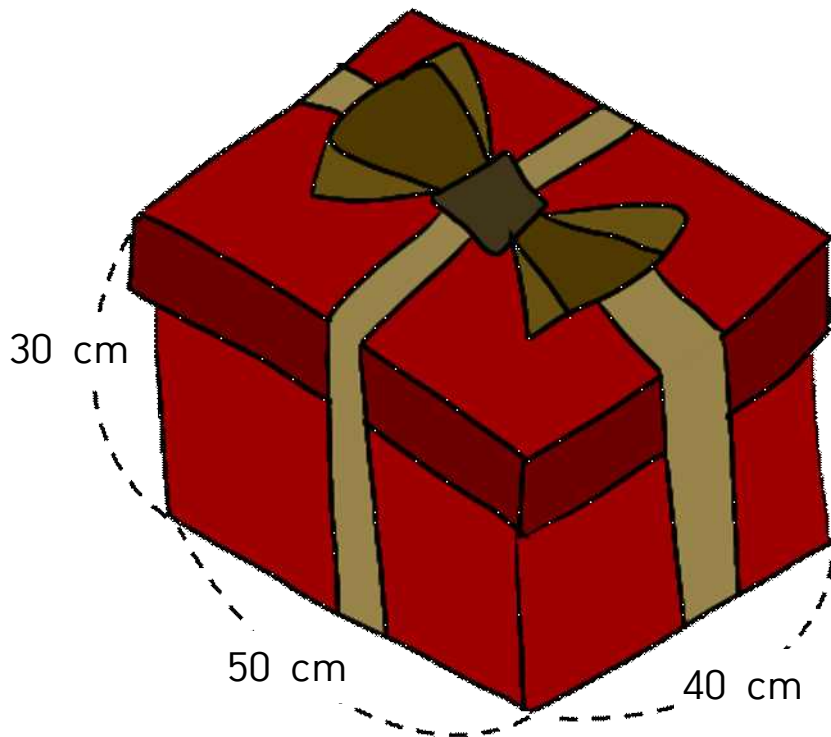


각설탕으로 상자 가득 채우기

◆ 지훈이의 고민을 들어주고 고민을 해결해 줍시다.



아래 선물 상자 안에 각설탕을 가득 채우려고 하는데, 각설탕이 몇 개가 필요할까? 각설탕은 가로, 세로, 높이가 모두 1 cm야.




()개

같이놀기 tip

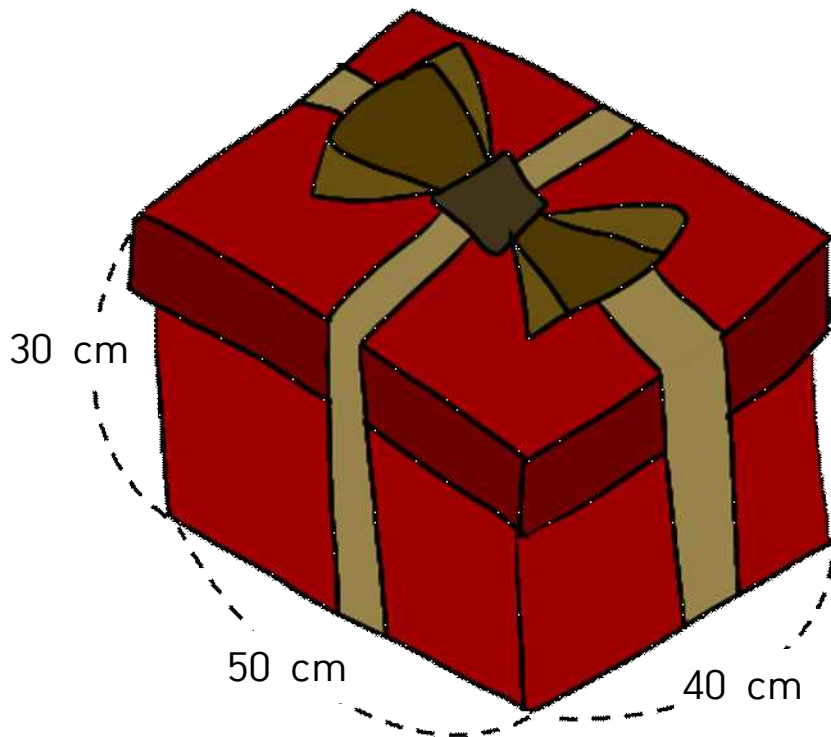
가로, 세로, 높이에 각각 몇 개씩 필요한지 먼저 구해 보세요.

각설탕으로 상자 가득 채우기

◆ 지훈이의 고민을 들어주고 고민을 해결해 줘시다.



아래 선물 상자 안에 각설탕을 가득 채우려고 하는데, 각설탕이 몇 개가 필요할까? 각설탕은 가로, 세로, 높이가 모두 1 cm야.



(60000)개

같이놀기 tip

가로, 세로, 높이에 각각 몇 개씩 필요한지 먼저 구해 보세요.